

الاسم : _____ الصف : _____

13) هي طبقة من طبقات الأرض، جزء منها صخور صلبة، وأخرى صخور منصهرة وتكون لينة ومنتفخة:



- A. القشرة
B. الوشاح
C. اللب

14) طبقة اللب الداخلي عبارة عن _____:

A. صخور منصهرة B. صخور صلبة C. صخور باردة

15) _____ هو المنطقة المنخفضة بين التلال والجبال:

A. السهل B. الساحل C. الوادي

16) هي مياه تحيط اليابسة _____:

A. الجزيرة B. البحيرة C. شبه الجزيرة

17) السهل - البحيرة - الوادي - الجبل كلها خصائص اليابسة تسمى:

A. المحيطات B. اليابسة C. الأشكال

18) أي خاصية من خصائص قاع المحيط تعد نوعاً من الجبال:

A. الجبل البحري B. الجبل C. السهل

7) عدد المحيطات على سطح الأرض:

A. 7 B. 3 C. 5

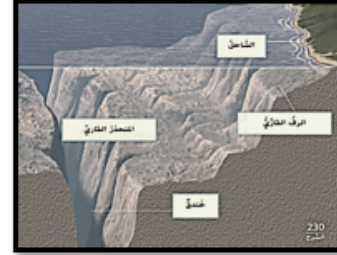


8) هي القارة التي تعيش فيها:

A. أفريقيا B. آسيا C. أوروبا

9) تسمى اليابسة التي توجد تحت المحيط _____:

- A. قاع المحيط
B. تربة المحيط
C. قارة المحيط



10) هو أخدود في أعماق أجزاء قاع المحيط:

A. الساحل B. الخندق C. الرف القاري

11) هي طبقة من طبقات الأرض، وهي الأقل سمكاً، والأكثر برودة:

- A. القشرة
B. الوشاح
C. اللب



12) هي أعمق طبقة من طبقات الأرض، وأكثرها سخونة:

A. اللب B. الوشاح C. القشرة

اختر الإجابة الصحيحة:



1) أي مما ذكر أكبر مساحة على سطح الأرض؟

A. اليابسة B. الماء C. الجبال

2) تبلغ تقريباً مساحة الماء على سطح الأرض _____:

A. ثلاثة أرباع الأرض B. ربع الأرض C. ربع الأرض

3) تبلغ تقريباً مساحة اليابسة على سطح الأرض _____:

A. ربع الأرض B. ثلاثة أرباع الأرض C. ربع الأرض

4) هي مسطحات مائية شاسعة من الماء المالح:

A. المحيطات B. الأنهار C. البرك

5) هي من المياه العذبة:

A. البحار B. المحيطات C. الأنهار

6) عدد القارات على سطح الأرض:

A. 7 B. 3 C. 5



هل أتقنت المهارات؟

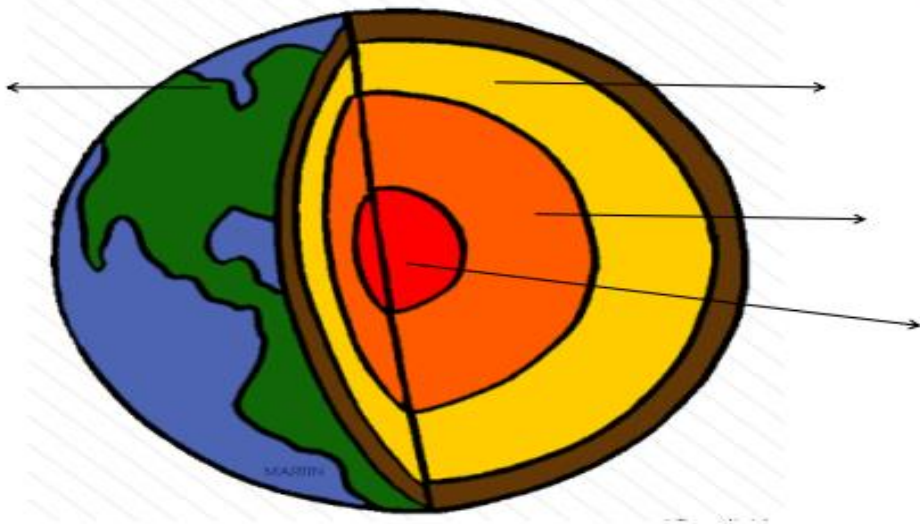


المعارف المكتسبة: طبقات الأرض

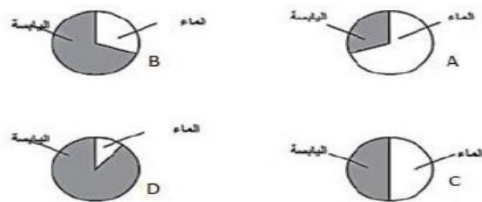
المهارة المكتسبة:

تحديد طبقات الأرض على المصور بشكل صحيح

استخدم الكلمات التالية وضعها في مكانها الصحيح على المصور
(الوشاح - اللب الخارجي - القشرة الأرضية - اللب الداخلي) ★



ما الرسم الدائري الذي يشير إلى نسبة توزيع اليابسة والماء على الأرض بشكل صحيح؟ ★



صنف المصادر المائية حسب نوعها في الجدول التالي :
(البركة - البحار - البحيرات - الجداول - الأنهار - المحيطات - الأنهار الجليدية - الوديان)

مياه عذبة	مياه مالحة

المعارف المكتسبة: أنواع تضاريس الأرض

المهارة المكتسبة:

تحديد أماكن تضاريس الأرض على المصور بشكل صحيح

(الجبال - الوادي - السهل - البحيرة - التل - الساحل - شبه الجزيرة - الجزيرة)

