

The background is white and filled with various mathematical symbols in cyan and light gray, including plus signs, minus signs, multiplication signs, and dots. A large, thick cyan circle is positioned on the left side of the image. The main title is written in a black, handwritten-style font, with a small cyan circle at the end of the first line.

مراجعة مادة الرياضيات

للمصف الرابع

ما الذي يمثل العدد 46,313 ؟

A - $40,000 + 6,000 + \underline{30} + 10 + 3$ ✗

B - $40,000 + 6,000 + 300 + 10 + 3$

C - $40,000 + 6,000 + 300 + \underline{3}$ ✗

D - ستة و أربعون ألفًا و ثلاثمئة و ثلاثة ✗

ما الجملة العددية التي تعد غير صحيحة؟

A - $342,435 < 342,436$

B - $342,436 > 342,435$

C - $342,465 < 342,456$

D - $342,465 = 342,465$



حدد نمط الأعداد

48,898 \Rightarrow 48,798 \Rightarrow 48,698 \Rightarrow 48,598

A - أصغر بمقدار 100,000

B - أصغر بمقدار 10,000

C - أصغر بمقدار 1,000

D - أصغر بمقدار 100

أي من ما يلي هو التقريب الصحيح لـ

218,965 – 273,376 مقربا لأقرب عشرة آلاف

A -

50,000

270,000 – 220,000

B -

54,000

C -

54,400

D -

54,411



اكتب معادلة الضرب لوصف النموذج

7 أضعاف

1	2	3	4	5	6
---	---	---	---	---	---

A - $35 = 5 \times 7$

B - $42 = \underline{6} \times 7$

C - $49 = 7 \times 7$

D - $56 = 8 \times 7$



أي مجموعة تمثل جميع عوامل العدد 24

A - 1,2,3,4,6,8,24

B - 0,1,2,3,4,6,8,12,24

C - 1,2,3,4,6,8,12,24

D - 1,2,3,4,6,8,12

$$1 \times 24 = 24$$

$$2 \times 12 = 24$$

$$3 \times 8 = 24$$

$$4 \times 6 = 24$$

ما هو المجهول $6 \times \dots = 300$

$$6 \times 5 = 30$$

$$6 \times 50 = 300$$

A - 400

B - 40

C - 500

D - 50



أوجد القيمة التقديرية لـ 267×8
قرب لأعلى قيمة مكانية

A -

2,400

$$300 \times 8 = 2,400$$

B -

2,500

C -

2,600

D -

2,700

$$3 \times 8 = 24$$

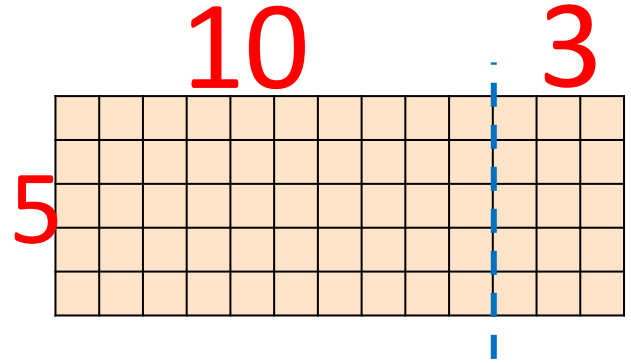
ما التعبير الذي يمثل النموذج؟

A - $(5 \times 10) \times (5 \times 3)$ ✗

B - $(5 \times 10) + (5 \times 3)$

C - $(\underline{4} \times 10) + (\underline{4} \times 3)$ ✗

D - $\underline{2} \times (5 \times 13)$ ✗



$$5 \times 10$$

$$5 \times 3$$

يوجد 15 كتاب بكل حقيبة، كم عدد الكتب في
200 حقيبة؟

A - 215

B - 300

C - 3,000

D - 30,000

$$\begin{array}{r} +1 \\ 15 \\ \times 2 \\ \hline 30 \end{array}$$

$$15 \times 200 = 3,000$$

أوجد القيمة التقديرية لـ $\underline{5}8 \times \underline{8}1$

A - 4,000

$$60 \times 80 = 4,800$$

B - 4,400

$$6 \times 8 = 48$$

C - 4,600

D - 4,800

اقسم $40,000 \div 8 = \dots$

A -

5,000

$40 \div 8 = \dots$

B -

500

$5 \times 8 = 40$

C -

6,000

$40,000 \div 8 = 5,000$

D -

600

+

تسير السيارة مسافة 3,178 كيلومترا لمدة 8 أشهر،
كم المسافة التقريبية التي تسير في الشهر الواحد؟

A - 300

B - 400

C - 500

D - 600

$$3,200 \div 8 = 400$$

$$4 \times 8 = 32$$

اضرب $509 \times 3 = \dots$

A - 1,227

B - 1,507

C - 1,524

D - 1,527

A handwritten multiplication problem showing 509×3 . The numbers are written in red and orange. A blue '+2' is written above the 0. A red 'x' is written to the left of the 3. A green horizontal line is drawn below the numbers. The result '1,527' is written in green below the line. A light blue triangle highlights the 5 and 0, and a light pink triangle highlights the 0 and 9.

$$\begin{array}{r} 2 \\ 509 \\ \times 3 \\ \hline 1,527 \end{array}$$

اضرب ... $43 \times 16 =$

- A - 256
- B - 301
- C - 688**
- D - 3,010

+	×	
4	3	
1	6	
×		
2	5	8
4	3	0
—		
6	8	8

لدى علي 98 بطاقة لكرة القدم ، حصل علي 37 إضافية من صديقه سيف، ثم أعطى 106 لزملائه بالمدرسة، وتمزق 13 منها، كم بطاقة ظلت مع علي؟

$$98 + 37 - 106 - 13 =$$

$$135 - 106 - 13 =$$

$$29 - 13 =$$

$$16$$

A - 15

B - 16

C - 228

D - 254



أي جملة تمثل خاصية التجميع في الجمع؟

A - $24,098 + 0 = 24,098$ ✗ المحايد

B - $202 + 401 = 401 + 202$ ✗ التبديل


C - $27 \div 1 = 27$ ✗ جملة قسمة

D - $(67+39) + 34 = 67+ (39+43)$ التجميع

أي مجموعة تمثل المضاعفات الخمسة
الأولى للعدد 7؟

A - 0 , 7 , 14 , 21 , 28

B - 0 , 7 , ⁺¹⁴21 , 28 , 35

C -  7 , 14 , 21 , 28 , 35

D - 0 , 7 , ⁺¹⁴21 , 35 , 49

أي جملة عددية تستخدم لتقدير الفرق

$$\textcircled{8},\underline{5}43 - \textcircled{2},\underline{3}97$$

A - $8,000 - 2,000 = 6,000$

$$9,000 - 2,000$$

B - $9,000 - 3,000 = 6,000$

C - $9,000 - 2,000 = 7,000$

D - $8,543 - 2,397 = 6,146$



اضرب $2 \times 4 \times 11 = \dots$

A - 22


B - 44

C - 66

D - 88

$= 2 \times 4 \times 11$

$= 8 \times 11$



تمنياتي بالتوفيق
لجميع الطلاب