



- السؤال الأول : ضع دائرة حول الإجابة الصحيحة فيما يلي د \ 5:

1- يشمل كل ما وصلنا من أجدادنا من علوم وفنون وعادات وتقاليد .

أ - السنع ب - التراث ج - التاريخ

2 - الأماكن والمباني التاريخية والقلاع والحصون والآثار والمتحف .

أ - التراث المادي ب - المتاحف ج - التراث

3 - متحف متكامل لدبي يحفظ لها تراثها هو .

أ - حصن الفهيدي . ب - قلعة الجاهلي ج - قصر الحصن

4 - من أكبر القلاع والحصون في الدولة هي .

أ - قلعة الحصن ب - قلعة الجاهلي ج - قلعة الفهيدي

5 - ينقسم التراث إلى .

أ - قسمين ب - ثلاثة أقسام ج - أربعة أقسام

لدولتنا الحبيبة تراث غني وأصيل عمره الآلف السنين وهو يشمل كل ما وصلنا من أجدادنا من علوم وفنون وعادات وتقاليد .
التراث المادي : يقصد به الأماكن والمباني التاريخية والقلاع والحصون والآثار والمتحف ، ومن أهم القلاع في الإمارات .

قلعة الحصن في أبوظبي :

التي بُنيت منذ 250 سنة ، وهي أقدم مبنى تاريخي من الحجارة في أبوظبي ، وأحد معالمها التراثية الشاهدة على تاريخ سكان الإمارة .

قلعة الجاهلي في العين :

التي تُعدّ إحدى أكبر القلاع في الدولة ، ولها تاريخ ضارب في القدم ، إذ بُنيت عام 1890م ، وترتبط ارتباطاً وثيقاً بتاريخ سكان مدينة العين ، وتحتوي اليوم معارض دائمة للتراث الإماراتي .

حصن الفهيدي في دبي

الذي أنشئ عام 1799م بهدف حماية المدينة ، وأعيد ترميمه لتحويله إلى متحف متكامل يحفظ لدبي تاريخها وتراثها ، ومن معروضاته الأثرية النحاسيات والخزفيات والفخاريات التي يعود تاريخها إلى أربعة آلاف سنة .



-السؤال الثاني : صنف الكلمات التراثية وفقا الجدول التالي د \ 6 :

الأماكن
التاريخية

الشعر

الآثار

القصص

التحف

المهرجانات

التراث الثقافي

التراث المادي



-السؤال الثالث : ضع علامة () أمام العبارة الصحيحة وعلامة () أمام العبارة الخطأ د \ 4:

1 - () إكرام الضيف جزء من التراث المادي .

2 - () توجد قلعة الفهيدي في إمارة الفجيرة .

3 - () تهتم دولة الإمارات بالحفاظ على التراث .

4 - () تعتبر قلعة الحصن من أقدام المباني التاريخية في إمارة أبوظبي .



- السؤال الرابع : ضع دائرة حول الإجابة الصحيحة فيما يلي : د \ 5

1- مقدار رغبة المستهلكين في الحصول على سلعة ما .

أ - الطلب ب - العرض ج - الوفرة

2 - توفر السلعة بكميات تناسب مقدار الطلب عليها .

أ - العرض ب - الوفرة ج - الندرة

3 - ما سبب ارتفاع أسعار الأضاحي قبيل عيد الأضحى في كل عام .

أ - لتوفرها بكثرة ب - لانخفاض الطلب عليها ج - لزيادة الطلب عليها

4 - أي هذه السلع تتوقع انخفاض سعرها بعد انتهاء جائحة كورونا .

أ - الكمادات الطبية ب - مسكنات الألم ج - المحارم الورقية

5 - تسعير السلع والخدمات يخضع لقانون .


أ - الشرطة ب - العرض والطلب ج - الصحة

العرض هو كمية السلع المتوفرة للمستهلكين ، ويعتمد العرض على ثلاثة عناصر : **السعر والكمية ، ووقت التصنيع** . ولذلك ستلاحظ أن السلع الغالية كالمجوهرات ، مثلاً ، لا تعرض بكميات كبيرة ، كما تعرض أقلام الرصاص في المكتبات ، وستلاحظ كذلك أن عرض البضائع التي يمر على تصنيعها وقت طويل يرتبط في الغالب بتخفيضات كبيرة في السعر . فكيف ، إذن تُحدد المتاجر كمية السلع التي تعرضها على المستهلكين ؟ هذا الأمر يرتبط ارتباطاً مباشراً بمعدل وقوة الطلب على السلعة .

إن تسعير السلع والخدمات يخضع لقانون أساسي في علم الاقتصاد ، يُسمى قانون العرض والطلب ، ومن المهم للمستهلك أن يفهم هذا القانون ، ويعرف كيف تُحدد أسعار السلع والخدمات في المتاجر والمصانع والشركات .
الطلب هو مقدار رغبة المستهلكين في الحصول على سلعة ما ..

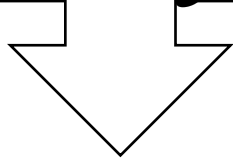
إذ يزداد الطلب على الحقائق المدرسية ، فيزداد العرض ، وتمتلئ المكتبات والمحلات التجارية بالحقائب من كل لون وشكل ، وكذلك لو فكرت في الرحلات الجوية بين الإمارات وجدة ، فستلاحظ أن عدد الرحلات يزداد في شهر رمضان بشكل عام فإن سعر أي سلعة أو خدمة يتحدد بكمية عرضها وكمية الطلب عليها .



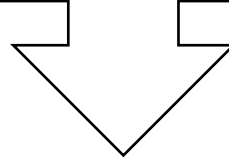


-السؤال الخامس : اقرأ كل بطاقة ثم أكتب بجانبها (انخفاض) أو (ارتفاع) : 6 \ د

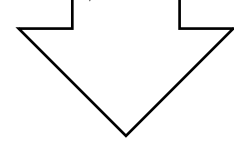
سافرت مع أسرتك إلى فرنسا في الإجازة الصيفية ، وقررتم أن تزوروا أحد المنتزهات المشهورة ، وأنتم هناك هطل مطر غزير ، ماذا تتوقع أن يحدث للطلب على المظلات ؟




محل للسيارات لديه عدد كبير من سيارات هذه السنة التي قاربت على الانتهاء ، والسيارات الجديدة ستصل قريباً ، ماذا تتوقع أن يحدث لسعر السيارات القديمة ؟



تحتفل دولة الإمارات في الثاني من ديسمبر من كل عام باليوم الوطني ، وتشارك كل مؤسسات الدولة في هذا الاحتفال ، ماذا تتوقع يحدث للطلب على الأعلام ؟



-تابع السؤال الخامس : لاحظ الصورة وأكتب أسفلها كلمة (وفرة ، ندرة) : 4 \ د



مع تمنياتي للجميع بالتوفيق والنجاح
معلمة المادة

4

