



مهمات أدائية

الوحدة (12) ، الدرس 1 : المحيط

المستوى (1) : اختار الإجابة الصحيحة :
- محيط كل شكل هو




- (a) 20
(b) 10
(c) 12

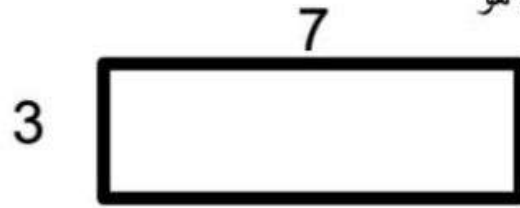


- (a) 9
(b) 12
(c) 3

المستوى (2) : اختار الإجابة الصحيحة :
- محيط كل شكل هو



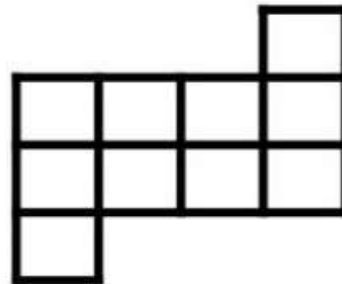
- (a) 20
(b) 18
(c) 9



- (a) 29
(b) 10
(c) 14

المستوى (3) : اختار الإجابة الصحيحة :
- محيط كل شكل هو

- منتزه مستطيل الشكل
طولى 5 متر وعرضها 3 كيلومتر
ما هو محيطها.



- (a) 20
(b) 18
(c) 9

- (a) 29
(b) 10
(c) 16


مهمات أدائية

الوحدة (12) ، الدرس 3 : نشاط عملي : تمثيل المساحة
الوحدة (12) ، الدرس 4 : حساب المساحة

المستوى (1) : اختار الإجابة الصحيحة :
- مساحة كل شكل هو




- (a) 12
- (b) 5
- (c) 6



- (a) 9
- (b) 12
- (c) 3

المستوى (2) : اختار الإجابة الصحيحة :
- مساحة كل شكل هو



- (a) 20
- (b) 18
- (c) 9

7

3



- (a) 21
- (b) 10
- (c) 14

المستوى (3) : اختار الإجابة الصحيحة :
- منزل مساحته مربعه الشكل
طول أحد الأضلاع 4 فما هو مساحته:

- منتزه مستطيل الشكل
طوله 5 متر ومساحته 45 كيلومتر
ما هو عرضه.

- (a) 20
- (b) 18
- (c) 9

- (a) 29
- (b) 16
- (c) 8

أنشطة كتابية

الوحدة (12) ، الدرس 5: الربط بين المساحة والمحيط

المستوى (1) : اختار الإجابة الصحيحة :

الشكل	محيط الشكل	مساحة الشكل
	a) 6 b) 12 c) 8	a) 9 b) 6 c) 12

المستوى (2) : اختار الإجابة الصحيحة :

الشكل	محيط الشكل	مساحة الشكل
	a) 6 b) 10 c) 20	a) 21 b) 10 c) 20

المستوى (3) : اختار الإجابات الصحيحة بالتلوين:

أبعاده
2 و 6

أبعاده
0 و 12

أبعاده
1 و 12

محيطه
12

- منتزه مستطيل الشكل طوله مساحته 12

محيطه
16

أبعاده
4 و 3

محيطه
14

أنشطة كتابية

الوحدة (12) ، الدرس 5 : الربط بين المساحة والمحيط

اختر الإجابة الصحيحة:

1: جدار منزل مربع الشكل إذا كان طول أحد أضلاعه 3 فإن المحيط يكون

- (a) 6 (b) 9 (c) 16

2: لوحة يريد بدر تحديد إطار عليها بشرط لونه أحمر إذا كان شكل اللوحة مربع وطول أحد أضلاعه 5 فإن طول الشريط هو

- (a) 25 (b) 20 (c) 15

3: برواز مربع الشكل يريد أحمد تحديده بشرط لونه أزرق وطول أحد أضلاع البرواز 2 متر وسعر المتر الواحد من الشريط ب 5 دراهم فكم تكلفت الشريط

- (a) 10 (b) 40 (c) 20

4: حديقة منزل مستطيلة الشكل طولها 5 متر وعرضها 3 فإن محيطها هو

- (a) 16 (b) 20 (c) 15

5: حديقة منزل مستطيلة الشكل طولها 5 متر وعرضها 4 فإن مساحتها هو

- (a) 16 (b) 20 (c) 15

6: حديقة فندق مستطيلة الشكل طولها 10 متر ومساحتها 70 متر مربع فإن عرضها هو

- (a) 700 (b) 7 (c) 17

7: إطار مستطيل الشكل طولها 8 متر ومحيطه 26 فإن عرضه هو

- (a) 10 (b) 5 (c) 34

8: باب منزل مستطيلة الشكل عرضه 7 متر ومساحته 21 فإن محيطها هو

- (a) 16 (b) 20 (c) 15