



مؤسسة الإمارات
للتعليم المدرسي
EMIRATES SCHOOLS
ESTABLISHMENT

بالتوفيق لطلبتنا الأعزاء

مراجعة الفصل الدراسي الثاني

الصف الثالث (سلسلة سلامة) المعلمة : نادية ربيع

وزارة التربية والتعليم

MINISTRY OF EDUCATION

مدرسة القرية ح1



السؤال الأول : اقرأ الشكل الذي امامك ثم اجيب عن الاسئلة التالية



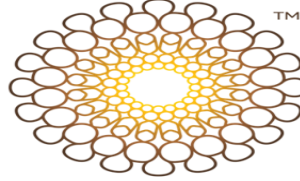
المعلمة نادية ربيع

- 1 - الدولة التي تحد الإمارات من جهة الشرق هي :
a - السعودية . b - عمان c - الإمارات d - الكويت
- 2 - المسطح المائي الذي تشرف عليه إمارة الفجيرة هو :
a - هرمز b - بحر عمان c - بحر العرب d - الخليج الغربي
- 3 - المسطحات المائية التي تشرف عليها الإمارات :
a - الخليج العربي
b - المحيط الأطلسي
c - بحر عمان
d - a و c
- 4 - تحد السعودية الإمارات من جهة :
a - الشمال b - الجنوب c - الشرق d - الغرب

- 5 - أكثر المعالم الطبيعية انتشارًا على الخريطة
a - الجبال b - السهول c - الجزر d - الصحراء
- 6- إمارة تقع بجانب السهل الساحلي الغربي
a - خورفكان b - دبا c - الشارقة d - العين
- 7- من الواحات المنتشرة في الإمارات وتقع بالجنوب من الدولة
a - الفجيرة b - ليوا c - العين d - الذيد
- 8- جبل يقع بالقسم الشمالي من الدولة
a - جيس b - حفيت c - ليوا d - الصحراء
- 9- من الجزر المحتلة الموجودة بالخريطة
a - دلما b - صير بني ياس c - أبوظبي d - طناب الصغرى
- 10- تقع الجبال في جهة
a - شمال b - جنوب c - شرق d - غرب
- 11- يشير اللون الأخضر بالخريطة إلى
a - الجبال b - السهول c - الجزر d - الصحراء
- 12- جزيرة تعتبر محمية طبيعية في دولة الإمارات
a - دلما b - صير بني ياس c - أبوظبي d - داس
- 13- جزيرة تحتوي حقول نفط وغاز طبيعي في دولة الإمارات
a - دلما b - صير بني ياس c - أبوظبي d - داس

السؤال الثاني :اقرأ النص الذي امامك ثم اجيب عن الاسئلة التالي..

إكسبو 2020	
	
	
معلومات عامة	
النوع	"تواصل العقول وصنع المستقبل"
تاريخ البداية	1 أكتوبر 2021 ^[1]
تاريخ الانتهاء	31 مارس 2022 ^[1]
المكان	دبي
الإحداثيات	24°55′15.25″N 55°15′25″E﻿ / ﻿24.9183194°N 55.2569444°E﻿ / 24.9183194; 55.2569444
البلد	الإمارات العربية المتحدة
تاريخ التأسيس	2020
موقع الويب	www.expo2020dubai.com ^[1]



إكسبو 2020
دبي، الإمارات العربية المتحدة
DUBAI, UNITED ARAB EMIRATES

أكسبو 2020 دبي هو معرض من معارض إكسبو الدولي، تستضيفه إمارة دبي في دولة الإمارات العربية المتحدة خلال الفترة من 1 أكتوبر 2021 إلى 31 مارس 2022. وكان المكتب الدولي للمعارض، خلال انعقاد جمعياته العامة في باريس يوم 27 نوفمبر 2013، أعلن فوز مدينة دبي بحق استضافة إكسبو 2020. اختارت دولة الإمارات العربية المتحدة شعار "تواصل العقول .. وصنع المستقبل" عنواناً لحملة استضافة "معرض اكسبو الدولي 2020" في دبي . وتشغل الوزيرة ريم الهاشمي منصب المدير العام لإكسبو 2020 دبي.

المطمة نادية ربيع

- 1 - تم افتتاح اكسبو 2020 في دبي بتاريخ :
a - 1 أكتوبر 2020 b - 31 مارس 2022 c - 1 أكتوبر 2021 d - 31 مارس 2020
- 2 - أعلن فوز دبي في أكسبو 2020 في مدينة :
a - فلوريدا b - عمان c - باريس d - الرياض
- 3 - عنوان التي تم اختياره لإكسبو 2020 :
a - المواطنين والمقيمين متساوون b - معرض أكسبو الدولي c - تواصل العقول وصنع المستقبل
- 4 - المدير العام لإكسبو 2020 في دبي :
a - ريم الزعابي b - نهى السويدي c - ريم الهاشمي d - سماح الهاشمي
- 5 - المدة التي سيتم انعقاد أكسبو 2020 في دبي :
a - أربع أشهر b - شهرين c - ستة أشهر d - 8 أشهر

السؤال الثالث :اقرأ الصورة التي امامك ثم اجيب عن الاسئلة التالي..



1- ما اسم المبنى الموجود بالصورة :
a - القرية العالمية b - أكسبو 2020 c - معرض المستقبل d - متحف المستقبل

2- يتكون المتحف من طابق :
a - 3 b - 6 c - 7 d - 8

3- يناقش كل طابق قضايا :
a -سياسية b - اقتصادية c - أمنية d - عالمية

4- يضم المتحفمختبرات :
a - 3 b - 6 c - 7 d - 8

5-من المختبرات الموجودة بالمتحف للأطفال مختبر:
a -الصحراء b - الرؤية c - التصميم d - القوة

6- التجارب التي يستعرضها المتحف :
a -السياسة b - التكنولوجيا c - العالم d - الإمارات

السؤال الرابع : تأمل الصورة التي امامك ثم احبب عن الاسئلة التالي:



المعلمة نادبة ربيع

1- أصبح المغفور له الشيخ زايد بن سلطان آل نهيان في عام 1966 حاكماً لإمارة :
a -الشارقة b - العين c - دبي d - ابوظبي

2 - تحقق حلم الاتحاد 1971 بعد خروج الاستعمار :
a -الهولندي b - البريطاني c - الامريكي d - الفرنسي

3- عقد اجتماع بين الشيخ زايد والشيخ راشد رحمهما الله وأعلن عن قيام اتحاد ثنائي بين الإماراتين في منطقة:
a -سيح شعيب b - عرقوب سديرة c - دبي d - مليحة


السؤال الخامس : تأمل الصورة التي امامك ثم اجب عن الاسئلة التالي:

 <p>التزلج على الرمال</p>	 <p>حقل نفط بري</p>	<p>والصحراء هي المساحة الأكبر وجوداً في جغرافيتنا. والمنصر الأعمق تأثيراً في تاريخنا الثقافي وحرارتنا الاجتماعي، والمكون الأكبر أثراً في اقتصادنا، فهي مصدر المياه ومستودع الثروات الطبيعية وحاضنة النباتات الرعوية والطبية، إنها دارنا وحياتنا وهويتنا ومستقبلنا، أرض تنضج بالحياة.</p> <p>عبدالمعطي بن زايد آل نهيان - حفظه الله -</p>
 <p>الواحة</p>	 <p>شجرة الغاف</p>	

المعلمة نادية ربيع

- 1- منطقة منخفضة في وسط الصحراء :
a -الوادي b - التل c- الواحة d - مليحة
- 2- من الأنشطة التي يمكن ممارستها في الصحراء :
a -تسلق الجبال b - سباق الزوارق c- التزلج على الثلج d - التزلج على الرمل
- 3- يكثر زراعة بالواحات :
a -الصبار b - النخيل c- جوز الهند d - اللوز
- 4- الشجرة المنتشرة في الإمارات وتوجد باكسبو 2020 هي:
a -الصبار b - النخيل c- الغاف d - السمر
- 5- الحيوانات الصحراوية
a -الفأر b - الجمل c- النعام d - البطريق

السؤال السادس : تأمل الصورة التي امامك ثم اجيب عن الاسئلة التالي.



المعلمة نادية ربيع

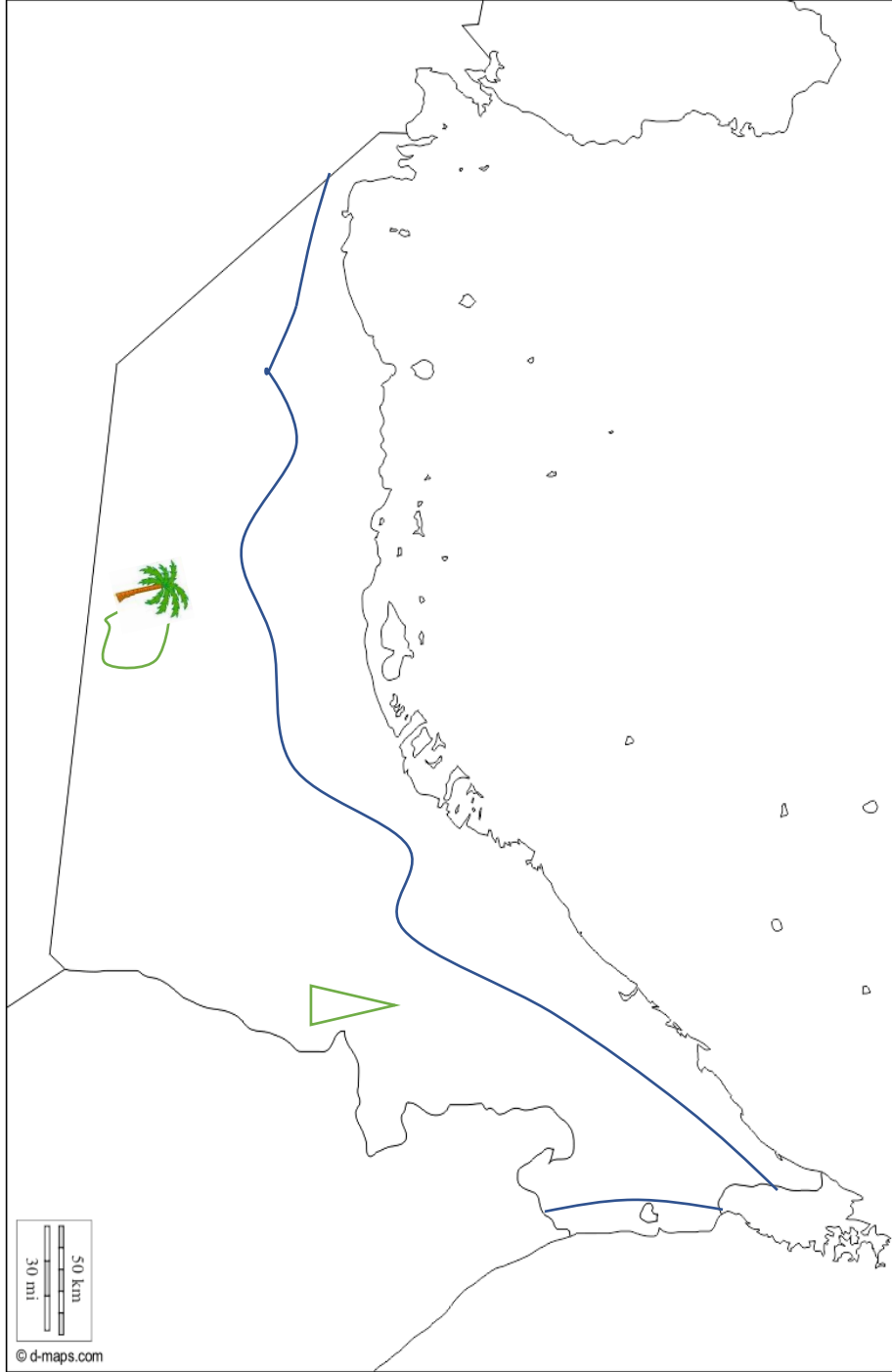
- 1- لعبة شعبية إماراتية يقفز فيها على رجل واحدة وتثنى الأخرى للخلف وتمسك باليد للوصول إلى الخط الثاني:
a . القبة b . الغميضة c . الكرابي
- 2- لعبة شعبية ينحني أحد الأطفال إلى الأمام ويقوم الآخرون بالقفز من فوق ظهره:
a . خبزرقاق b . الدسيصة c . المسطاع
- 3- (طاق طاق طاوية) لعبة شعبية يقوم بممارستها الأطفال:
a . الذكور فقط b . الذكور والإناث c . الإناث فقط
- 4- لعبة بناتية حيث تتقابل طفلتان على الأرض وتمد كل واحدة رجلها للأمام وتقوم بقية البنات بالقفز دون الملامسة:
a . التيلة b . الكرابي c . النطة
- 5- لعبة شعبية يتم ربط الحبال المتينة في أغصان شجرة قوية بحيث تستطيع البنت الجلوس والتمرجح بها:
a . المربحان b . الصقلة c . الحالوسة

السؤال السابع : صل بين الجملة وموقعها على الخريطة ثم لونه:

واحة ليوا.

جبل حفيت

الصحراء



السهل الساحلي الغربي.

السهل الساحلي الشرقي.