

التعلم عن بعد



صباح الخير



الإمارات العربية المتحدة
وزارة التربية والتعليم



أيام الأسبوع

الأحد
الاثنين
الثلاثاء
الأربعاء
الخميس
الجمعة
السبت

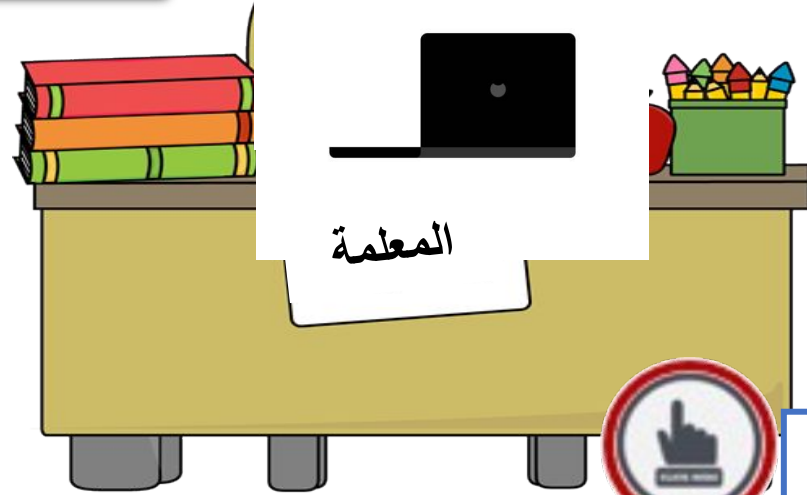


جدول التعلم-1

اهلا و سهلا
طلابي
الرائعين



الاستكشاف ما اجزاء-2
النبات



المعلمة


التحدي-4

فيديو-3





قوانين التعلم عن بعد



التهيئة

CREATED USING
POWTOON



الإمارات العربية المتحدة
وزارة التربية والتعليم



عام التسامح

2019-2020

العلوم المتكاملة

نسخة الإمارات العربية المتحدة



الصف

1

Mc
Graw
Hill

هذا هو كتابي
العلوم

درسنا اليوم أجزاء النبات

نواتج التعلم

تحديد أجزاء النبات مثل الأوراق والسيقان والجذور -1





مفردات جديدة

السباق

الجبذور

الزهررة

الأوراق


... أعيروني انتباهكم يا أبطال لنشاهد معا



CREATED USING
POWTOON

التعرف على أجزاء النبتة

... والآن هيا للنقاش ما تم مشاهدته



ما هي أجزاء النبات
التي رأيناها

أجزاء النبات



هيا بنا لنميز أجزاء النبات

<https://www.liveworksheets.com/li1124912eq>





أناجزء من النبات اسمي

A

الزهرة

B

الساق


C

الجزور

D

الاوراق





ما الجزء الناقص في النبات

A



B



C



D





ما الجزء الناقص في النبات

A



B



C



D





ما الجزء الناقص في النبات

A



B



C



D

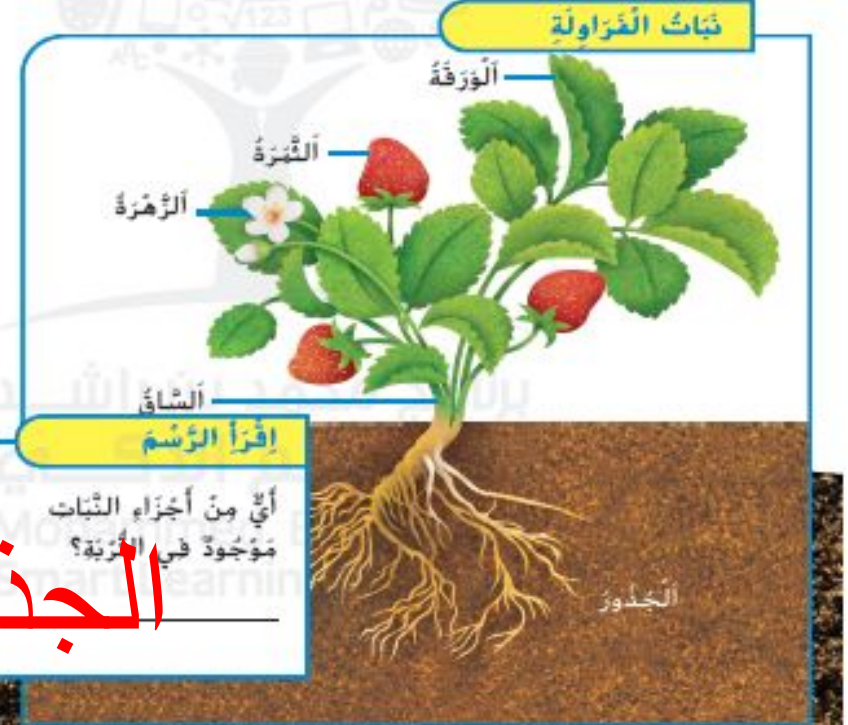


ما الجزء النبات الموجود في التربة



مَا هِيَ أَجْزَاءُ النَّبَاتَاتِ؟

لَا تَسْتَطِيعُ النَّبَاتَاتُ أَنْ تَنْتَهَلَ مِنْ مَكَانِهَا
مِثْلَكَ. يَجِبُ عَلَيْهَا أَنْ تَحْضُلَ عَلَى كُلِّ مَا
تَحْتَاجُ إِلَيْهِ مِنَ الْمَكَانِ الْمَجِيبِ بِهَا.



الجذور

لِلنَّبَاتَاتِ أَجْزَاءٌ تُسَاعِدُهَا فِي الْحُصُولِ عَلَى
مَا تَحْتَاجُ إِلَيْهِ. مُعْظَمُ النَّبَاتَاتِ لَهَا أَوْرَاقٌ
وَسَيْطَانٌ وَجَذْوَرٌ.
يُمْكِنُ أَنْ تَبْدُو هَذِهِ الْأَجْزَاءُ مُخْتَلِفَةً فِي أَنْوَاعِ
النَّبَاتَاتِ الْمُخْتَلِفَةِ.

1. الأوراق

2. الساق

3. الجذور

تحقق سريعاً

1. اكتب أسماء أجزاء النباتات.

CREATED USING
POWTOON

التعرف على أجزاء النبتة



wordwall

- <https://wordwall.net/resource/2680073>
- <https://wordwall.net/resource/8724747>



حفرة التعلم #TheLearningPit



أقيم نفسي



ونفتح يا صغاري
بوابة التعلم الذكي **LMS**
نحل على الأنشطة





كيفية الوقاية من فيروس كورونا

خريطة الكنز



UNITED ARAB EMIRATES
MINISTRY OF EDUCATION



الإمارات العربية المتحدة
وزارة التربية والتعليم

ما وظيفة أجزاء النبات؟

اليوم:
التاريخ:



أجزاء النباتات

الجزء الثاني



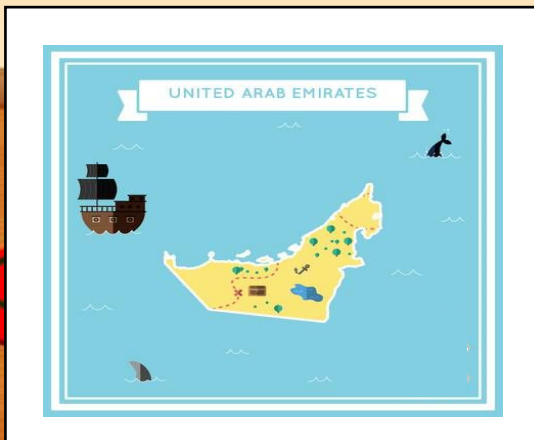
نواتج التعلم

تحديد وظائف أجزاء النبات



بالطبع أعرفه ولكنني سأسأل أصدقائي
الذين يتابعوننا من خلف الشاشة ما هو
أطول جبل في الإمارات ، نعم أحسنتم ، هيا
يا محمد لنبحث عن حل للأغاز ونأخذ الكنز
، لا تنس الخريطة

هل تذكرين ماذا قالت لنا المعلمة ،
سنبحث عن الكنز في كهف موجود
في أطول جبل في دولة الإمارات ، ما
اسم أطول جبل في الإمارات يا ميرة
؟



لا تقلق يا أخي هيا لنبدأ
المغامرة في البحث عن
الكنز وحل ألغازه .

وصلنا الكهف في جبل جيس
ولكنني أشعر بالقلق



أي من أجزاء النبات موجود في التربة ؟
الجدور – الأوراق

وصلنا يا أختي للصندوق الأول
علينا أن نحل الألغاز مع
أصدقائنا الصغار

الجدور



تستطيع النباتات أن تنتقل من مكانها
صح - خطأ

وهذا الصندوق الثاني

خطأ



ما الجزء الناقص


أحسنتم وصلنا للتالث

الزهرة

الأوراق


الساق

الجزور



لنشاهد الفيديو التالي

أنتم رائعين وصلنا المندوس
الرابع



CREATED USING
POWtoon



ما وظيفة أجزاء النبات ؟



ما شاء الله وصلنا
للكامس وبقي القليل





الأورا ق

وهذا الصندوق السادس



تصنع الغذاء



السا ق

وهذا الصندوق السابع

ينقل الماء و الغذاء

يحمل النبات



الْجذو

وهذا الصندوق الثامن

تمتص الماء و الغذاء

تثبت النبات





لِمَاذَا لَمْ تَسْقُطِ الشَّجَرَةُ؟

وهذا الصندوق التاسع



جُرَيْفَةٌ سَرِيعَةٌ



ضع كرفسنا في
ماء ملوّن.
أزسّم ما تراه.

مَا وَظِيفَةُ أَجْزَاءِ النَّبَاتِ؟

الأوراقُ تَسْتَحْدِمُ ضَوْءَ الشَّمْسِ وَالْهَوَاءَ
لِصْنَعِ الْغِذَاءِ. يَنْتَقِلُ الْغِذَاءُ وَالْمَاءُ عَنْ طَرِيقِ
السَّاقِ إِلَى الْأَجْزَاءِ الْأُخْرَى مِنَ النَّبَاتِ.
السَّاقُ تَحْمِلُ الثَّبَاتِ. الْجُدُورُ تُنْبِتُ
الثَّبَاتَ فِي الْأَرْضِ.

ص 36



36
الشرح

وهذا الصندوق العاشر



SONORAN ROOT NETWORKS

جذور طويلة وعميقة

جذور قريبة
من سطح الأرض

إنكم عباقرة وصلنا للأخير



جذور طويلة وعميقة



النباتات لها جذور تمتص الماء والمواد الغذائية من التربة.

بعض النباتات لها جذور قريبة من سطح الأرض. توجد نباتات أخرى لها جذور طويلة وعميقة.



جذور قريبة من سطح الأرض

مراجعة سريعة ✓

2. لماذا تعد الجذور مهمة؟

تثبت النبات في التربة

تمتص الماء و المواد المغذية من التربة

إنكم عباقرة وصلنا للأخير




ماتحس مروي

أكتب عمتا تعلمتة.


إحتياجات النباتات

تحتاج الى
ماء و هواء و ضوء
الشمس و مواد مغذية



أجزاء النبات

ساق
أوراق
جذور
أزهار



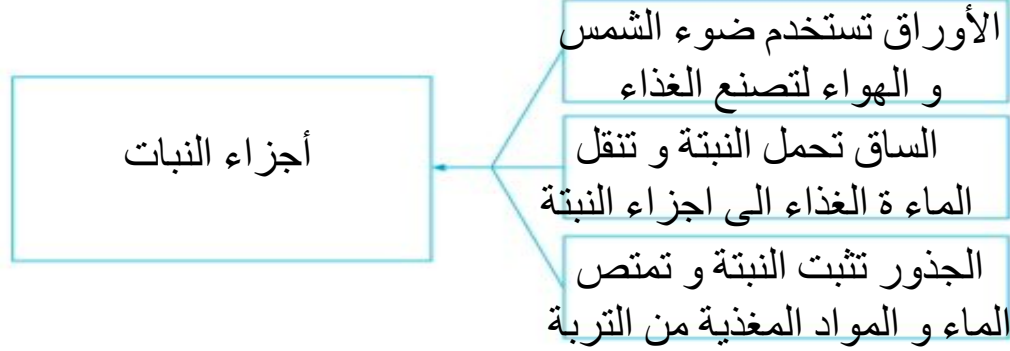
إنكم عباقرة وصلنا للأخير

فَكَّرْ وَتَحَدَّثْ وَاكْتُبْ

1 المَفْرَدَاتُ مَا الْجُدُورُ؟

تثبت النباتات في التربة و
تمتص الماء و المواد المغذية من التربة

2 التَّلْخِيصُ. صف أجزاء الثَّبات.



السؤال العميم كيف تساعد أجزاء الثَّبات الثَّباتات؟

الأوراق تستخدم ضوء الشمس و الهواء لتصنع الغذاء

الساق تحمل النبتة و تنقل الماء و الغذاء الى اجزاء النبتة

الجذور تثبت النبتة و تمتص الماء و المواد المغذية من التربة



امرح و العب

إنكم عباقرة وصلنا للأخير

أجزاء النبات





الحمد لله تمكنا بمساعدتكم من حل الألغاز والحصول على الكنوز شكراً لكم أيها المبدعين

هيا بنا نختبر معرفتنا بوظائف
أجزاء النبات

<https://wordwall.net/resource/7274627>

<https://wordwall.net/resource/4650877>

أنتم رائعين
بوركت جهودكم جميعا
إلى اللقاء

