







Circle the letter corresponding to the correct answer.




ضع دائرة حول رمز الإجابة الصحيحة.

Question	1	1	السؤال
Which of the following animals is carrying <b>thorns</b> to protect itself?			أي من الحيوانات التالية يحمل الأشواك لحماية نفسه؟
			
	1	2	3
A		1	
B		2	
C		3	

Question	2	2	السؤال
Which image represents <b>living things</b> ?			أي صورة مما يلي تمثل كائنات حية؟
			
	1	2	3
A		1	
B		2	
C		3	



Question	3	3	السؤال
Which of the following images shows plant's leaves?			أي من الصور التالية تدل على أوراق النبات؟
			
	1	2	3
A		1	
B		2	
C		3	

Question	4	4	السؤال
Which of the following performs the process of photosynthesis in the plant?			أي مما يلي يقوم بعملية البناء الضوئي في النبات؟
			
	1	2	3
A		1	
B		2	
C		3	



السؤال

Question

5

5

of the following plants is classified as  
ring plant?

أي من النباتات التالية تُصنّف **كنبات مزهر**؟



1



2



3

1

2

3

السؤال

Question

6

6

the following animals breathes  
gills?

أي من الحيوانات التالية يتنفس **بالخياشيم**؟



1



2



3

1

2

3

Question	7	7	السؤال
Which of the following animals has <b>sharp teeth</b> that help to get food?			أي من الحيوانات التالية لديه <b>أسنان حادة</b> تساعد للحصول على غذائه؟



1



2



3

A		1
B		2
C		3

Question	8	8	السؤال
Which of the following animals belongs to the <b>invertebrates</b> ?			أي من الحيوانات التالية ينتمي إلى <b>اللافقاريات</b> ؟



1



2



3

A		1
B		2
C		3





Question

9

9

Which of the following organisms is classified as amphibians?

أي من الكائنات التالية يُصنّف من البرمائيات؟



1



2



3

1

2

3

Question


10

10

السؤال

Which of the following numbers indicates the embryo in the seed?

أي من الأرقام التالية يدل على الجنين في البذرة؟



1

2


3

Question 11  
 Which of the following plants has the life cycle shown in the figure below?  
 السؤال 11  
 أي من النباتات التالية له دورة الحياة الموضحة بالشكل أدناه؟



Cherry	الكرز
Fern	السرخس
Pine	الصنوبر


Question 12  
 Which of the following numbers refers to the formation of the larva in the life cycle of the ladybird?  
 السؤال 12  
 أي من الأرقام التالية يشير إلى تكون اليرقة في دورة حياة الدعسوقة؟



A	1
B	2
C	3



Question	13	13	السؤال
Which of the following cycles shows the correct life cycle of the <b>frog</b> ?			أي دورة مما يلي تُوضح دورة حياة الضفدع الصحيحة؟



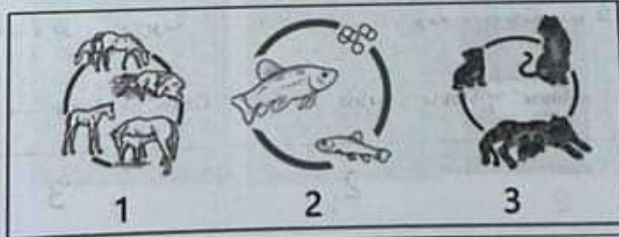
1

2

3

A		1	
B		2	
C		3	

Question	14	14	السؤال
Which cycle of the following is similar to that of a <b>sea turtle</b> ?			أي دورة مما يلي تُشبه دورة حياة سلحفاة بحرية؟



1

2

3

A		1	
B		2	
C		3	





15

Following is considered as a

15

السؤال

أي مما يلي يُعتبر صفة وراثية؟

الجروح والتندبات  
Wounds and scars

1

راكوب الدراجة  
Ride bicycle

2

لون العين  
Eye color

3

1

2

3

16

Which is the **correct** food chain?

16

السؤال

أي مما يلي يمثل السلسلة الغذائية **الصحيحة**؟

بومة ← عشب

Grass → Mouse

1

فأر ← عشب ← بومة

Mouse → Grass → Owl

2

عشب ← فأر ← بومة

Grass → Mouse → Owl

3

1

2

3





## Question

Which number in the image expresses the **producers**?

أي رقم من الصورة يُعبر عن **المنتجات**؟



A

1

B

2


C

3

## Question

Which image expresses **medical technology**?

ما هي الصورة التي تُعبر عن **التكنولوجيا الطبية**؟



1



2



3

A

1

B

2

C

3



19	19	السؤال
What is the last step in the design process?	ما هي الخطوة الأخيرة في عملية التصميم؟	
Identify the problem	تحديد المشكلة	
	براءة الاختراع	
Build a model	إنشاء النموذج	

20	20	السؤال
Which energy source reflects sustainable and friendly energy?	أي مما يلي يُعبر عن الطاقة المستدامة والصديقة للبيئة؟	



2

3

1

2

3





Question	23	23	السؤال
***** BONUS *****		***** BONUS *****	
Which of the following animals belongs to the mollusks?		أي من الحيوانات التالية ينتمي إلى الرخويات؟	



1



2



3

A	1
B	2
C	3

Question	24	24	السؤال
***** BONUS *****		***** BONUS *****	
Which number of the following represents the leaves of a conifer plant?		أي رقم مما يلي يشير إلى أوراق نبات صنوبري؟	



1



2




3

A	1
B	2
C	3





السؤال	25	25
***** BONUS *****	***** BONUS *****	***** BONUS *****
ما السمة التي تجعل الزهرة فريدة في نوعها؟	Which is the feature that makes a flower unique?	
		
A	Blond hair	الشعر الأشقر
B	Beautiful scent	الرائحة الجميلة
C	Smooth fur	الفرو الناعم

انتهت الأسئلة

