

تم تحميل وعرض المادة من

منهجي

mnhaji.com



موقع منهجي منصة تعليمية توفر كل ما يحتاجه المعلم
والطالب من حلول الكتب الدراسية وشرح للدروس
بأسلوب مبسط لكافة المراحل التعليمية وتوزيع
المناهج وتحضير وملخصات ونماذج اختبارات وأوراق
عمل جاهزة للطباعة والتحميل بشكل مجاني

حمل تطبيق منهجي ليصلك كل جديد



التوقيع	اسم المصحح :	الدرجة	 وزارة التعليم Ministry of Education	المملكة العربية السعودية وزارة التعليم الإدارة العامة للتعليم مدرسة
التوقيع	اسم المراجع :	40	 رؤية 2030	

رقم الجلوس	الصف الأول متوسط	العام الدراسي 1445 هـ	أسئلة اختبار الفصل الدراسي الأول
عدد الصفحات : 2	الزمن : ساعة ونصف	المادة : اجتماعيات	اسم الطالب :

استعن بالله ثم اجب على الاسئلة

السؤال الأول

10

ضع علامة (√) أمام العبارة الصحيحة وعلامة (X) أمام العبارة الخاطئة

()	من نتائج التخطيط التوتر والقلق .	1
()	شكل الأرض كامل الاستدارة .	2
()	أول رائد فضاء عربي مسلم هو الأمير سلطان بن سلمان .	3
()	اهتم المسلمون بعلم الفلك لارتباطه بالامور الشرعية .	4
()	تم إنشاء الدواوين في عهد الخليفة عمر بن الخطاب .	5
()	تستمر دورة الأرض اليومية مدة 24 ساعة .	6
()	من فوائد خطوط الطول معرفة الزمن .	7
()	يساعد التخطيط على تنظيم الوقت .	8
()	الانسان يشعر بحركة الأرض .	9
()	تبلغ نسبة الماء على سطح الأرض 29 % .	10

السؤال الثاني

8

أربط بين العمود [أ] بما يناسبه في العمود [ب] بوضع الرقم المناسب :

العمود [ب]	العمود [أ]
1- المشتري	أقرب كواكب المجموعة الشمسية .
2- استراليا	نجم كروي غازي ملتهب يشع ضوء وحرارة .
3- آسيا	أبعد كواكب المجموعة الشمسية .
4- الكواكب	كل ما يحيط بنا من نجوم ومجرات ومخلوقات حية .
5- عطارذ	أكبر كواكب المجموعة الشمسية .
6- الشمس	أصغر قارات العالم .
7- نبتون	أكبر قارات العالم .
8- الكون	أجسام كروية صلبة معتمة تستمد الضوء والحرارة من الشمس .

ضع دائرة على الحرف الذي يسبق الإجابة الصحيحة لكل مما يلي :

1- يبلغ عدد دوائر العرض :

أ 360 دائرة ب 180 دائرة ج 150 دائرة

2- العلم الذي يبين معاني القرآن الكريم ويوضحها هو علم :

أ الحديث ب التفسير ج الفقه

3- من أبرز علماء المسلمين في علم الرياضيات :

أ محمد الخوارزمي ب جابر بن حيان ج أبو الريحان البيروني

4- يحدث فصل الصيف في شمال الكرة الأرضية عندما تتعامد أشعة الشمس على :

أ مدار السرطان ب مدار الجدي ج خط الاستواء

5- يبلغ عدد قارات العالم :

أ 7 قارات ب 5 قارات ج 8 قارات

6- قامت حضارة بلاد الرافدين في :

أ الصين ب العراق ج مصر

7- من إنجازات الحضارة الإسلامية في النظام السياسي :

أ القضاء ب الدواوين ج الوزارة

8- العلم الذي يدرس الوقائع وأوقاتها هو علم :

أ الجغرافيا ب الفلك ج التاريخ

9- للأرض :

أ حركة واحدة ب ثلاث حركات ج حركتان

10- ترتيب الأرض من حيث القرب من الشمس :

أ الأول ب الثاني ج الثالث

11- تتميز جميع كواكب المجموعة الشمسية بأنها :

أ شديدة الحرارة ب شديدة البرودة ج ذات شكل كروي

12- الخط الرئيسي من خطوط الطول هو خط :

أ الاستواء ب السرطان ج جرينتش

أ / اذكر الأسس التي قامت عليها الحضارة الإسلامية :

1- 2-

3- 4-

ب / اكمل الفراغات التالية :

1- قامت الحضارة الفرعونية على نهر في الفترة ما بين سنة ق م إلى سنة ق م .

2- ينتج عن حركة الأرض اليومية ثلاث نتائج هي 1- 2-

3-

نموذج اجابة

التوقيع	اسم المصحح :	رجة	المملكة العربية السعودية وزارة التعليم الإدارة العامة للتعليم مدرسة
التوقيع	اسم المراجع :	40	رؤية 2030 Ministry of Education

رقم الجلوس	الصف الأول متوسط	العام الدراسي 1445 هـ	أسئلة اختبار الفصل الدراسي الأول
عدد الصفحات : 2	الزمن : ساعة ونصف	المادة : اجتماعيات	اسم الطالب :

استعن بالله ثم اجب على الاسئلة

السؤال الأول

10

ضع علامة (√) أمام العبارة الصحيحة وعلامة (X) أمام العبارة الخاطئة

(X)	من نتائج التخطيط التوتر والقلق .	1
(X)	شكل الأرض كامل الاستدارة .	2
(√)	أول رائد فضاء عربي مسلم هو الأمير سلطان بن سلمان .	3
(√)	اهتم المسلمون بعلم الفلك لارتباطه بالامور الشرعية .	4
(√)	تم إنشاء الدواوين في عهد الخليفة عمر بن الخطاب .	5
(√)	تستمر دورة الأرض اليومية مدة 24 ساعة .	6
(√)	من فوائد خطوط الطول معرفة الزمن .	7
(√)	يساعد التخطيط على تنظيم الوقت .	8
(X)	الانسان يشعر بحركة الأرض .	9
(X)	تبلغ نسبة الماء على سطح الأرض 29 % .	10

السؤال الثاني

8

أربط بين العمود [أ] بما يناسبه في العمود [ب] بوضع الرقم المناسب :

العمود [ب]	العمود [أ]
1- المشتري	(٥) أقرب كواكب المجموعة الشمسية .
2- استراليا	(٦) نجم كروي غازي ملتهب يشع ضوء وحرارة .
3- آسيا	(٧) أبعد كواكب المجموعة الشمسية .
4- الكواكب	(٨) كل ما يحيط بنا من نجوم ومجرات ومخلوقات حية .
5- عطارذ	(١) أكبر كواكب المجموعة الشمسية .
6- الشمس	(٢) أصغر قارات العالم .
7- نبتون	(٣) أكبر قارات العالم .
8- الكون	(٤) أجسام كروية صلبة معتمة تستمد الضوء والحرارة من الشمس .

ضع دائرة على الحرف الذي يسبق الإجابة الصحيحة لكل مما يلي :

1- يبلغ عدد دوائر العرض :

أ 360 دائرة ب 180 دائرة ج 150 دائرة

2- العلم الذي يبين معاني القرآن الكريم ويوضحها هو علم :

أ الحديث ب التفسير ج الفقه

3- من أبرز علماء المسلمين في علم الرياضيات :

أ محمد الخوارزمي ب جابر بن حيان ج أبو الريحان البيروني

4- يحدث فصل الصيف في شمال الكرة الأرضية عندما تتعامد أشعة الشمس على :

أ مدار السرطان ب مدار الجدي ج خط الاستواء

5- يبلغ عدد قارات العالم :

أ 7 قارات ب 5 قارات ج 8 قارات

6- قامت حضارة بلاد الرافدين في :

أ الصين ب العراق ج مصر

7- من إنجازات الحضارة الإسلامية في النظام السياسي :

أ القضاء ب الدواوين ج الوزارة

8- العلم الذي يدرس الوقائع وأوقاتها هو علم :

أ الجغرافيا ب الفلك ج التاريخ

9- للأرض :

أ حركة واحدة ب ثلاث حركات ج حركتان

10- ترتب الأرض من حيث القرب من الشمس :

أ الأول ب الثاني ج الثالث

11- تتميز جميع كواكب المجموعة الشمسية بأنها :

أ شديدة الحرارة ب شديدة البرودة ج ذات شكل كروي

12- الخط الرئيسي من خطوط الطول هو خط :

أ الاستواء ب السرطان ج جرينتش

أ / اذكر الأسس التي قامت عليها الحضارة الإسلامية :

- 1-.....الاساس الديني.....
2-.....الاساس العلمي.....
3-.....الأساس اللغوي.....
4-.....الاساس الاخلاقي.....

ب / اكمل الفراغات التالية :

- 1- قامت الحضارة الفرعونية على نهر..... النيل..... في الفترة ما بين سنة ٣١٥٠ ق.م إلى سنة ٣٠ ق.م .
2- ينتج عن حركة الأرض اليومية ثلاث نتائج هي 1-..... الليل والنهار..... 2-..... تغير اتجاه الرياح.....
3-..... اختلاف التوقيت.....

الاختبار النهائي للفصل الدراسي الأول

الدرجة رقمًا	الدرجة كتابة	المصحح	التوقيع	المراجع	التوقيع
	40				

اسم الطالب: رقم الجلوس:

السؤال الأول: ضع علامة (√) أمام العبارة الصحيحة وعلامة (X) أمام العبارة الخاطئة:

10

1	الشمس من مكونات المجموعة الشمسية.
2	الأرض هي المكان الوحيد الذي توجد فيه الحياة بين سائر كواكب الكون.
3	شكل الأرض مثلثة.
4	تدور الأرض حول محورها في ثلاثون ساعة.
5	تعاقب الليل والنهار ينتج عن حركة الأرض حول محورها.
6	اعتمد المسلمون على قيم الإسلام في دراساتهم وأنشاء المعرفة.
7	الترجمة هي نقل العلوم من لغتها الأصلية إلى اللغة الفارسية.
8	يساعدنا التخطيط في المحافظة على الصحة من حيث انتظام النوم ومواعيد الوجبات.
9	لا يوجد ارتباط بين الفن الإسلامي والدين.
10	كان للعرب معرفة بالتجارة قبل الإسلام.

السؤال الثاني : اختر الإجابة الصحيحة:

10

1- تدور الأرض حول	أ - القمر	ب - الشمس	ج - الزهرة
2- هو الخط الوهمي المستقيم الواصل بين أبعد نقطتين على خط الاستواء	أ - القطر الاستوائي	ب - القطر القطبي	ج - القطر الشمالي
3- من المناطق الحرارية على سطح الأرض	أ - المنطقة الحارة	ب - المنطقتان المعتدلتان	ج - جميع ما سبق
4- يغطي 71% من مساحة سطح الأرضية	أ - الماء	ب - اليابسة	ج - الجبال
5- هو الأساس الأول للحضارة الإسلامية واعتمد على القرآن الكريم والسنة النبوية	أ - الأساس السياسي	ب - الأساس الديني	ج - الأساس العلمي
6- تعني المعاونة في تحمل أعباء الحكم	أ - بيت المال	ب - الإمارة	ج - الوزارة
7- من أسس النجاح إدارة الوقت بطريقة	أ - منظمة	ب - عشوائية	ج - غير منظمة
8- هو الإعداد المنظم لتحديد المهام والاعمال المستقبلية ومواعيد القيام بها وكيفية إنجازها	أ - الإدارة	ب - التخطيط	ج - الاقتصاد

9- لماذا نحتاج التخطيط		
أ - بناء شخصيتنا الوطنية	ب - الاستمتاع بالوقت	ج - جميع ما سبق
10- اعتنى المسلمون ب..... لأنها المصدر الاول لغذاء الانسان		
أ - الزراعة	ب - الصناعة	ج - التعليم

السؤال الثالث : اختر من المجموعة (أ) ما يناسبها في المجموعة (ب) مستعينا " بالأرقام"

10

المجموعة (أ)	الأرقام	المجموعة (ب)
1		درب التبانة
2		خطوط الطول
3		الحضارة القديمة
4		العسس
5		العلوم الشرعية
6		النجاح والتفوق
7		خطوات تنظيم الوقت
8		العلوم الطبيعية
9		آسيا
10		المحيط الهادي
		حضارة بلاد الرافدين
		علم الحديث
		المجموعة الشمسية
		حصر الاعمال اليومية
		التخطيط
		خط جرينتش
		أكبر القارات
		حفظ الامن ليلاً
		أكبر المحيطات
		علم الفيزياء

السؤال الرابع : اجب على الاسئلة الاتية:

10

1. عرف خطوط الطول؟

.....

2. كم عدد دوائر العرض؟

.....

3. من الفصول المناخية الاربعة..... و

4. من خطوات تنظيم الوقت للمهام الدراسية..... و

5. عرف سطح الارض؟

.....

6. ماهي الحضارة؟

7. بم تميزت عمارة المساجد؟

8. لماذا اعتنى المسلمون ببناء الحصون والقلاع؟

الاختبار النهائي للفصل الدراسي الأول

الدرجة رقمًا	الدرجة كتابة	المصحح	التوقيع	المراجع	التوقيع
40					
اسم الطالب:		نموذج الإجابة			
رقم الجلوس:					

السؤال الأول: ضع علامة (√) أمام العبارة الصحيحة وعلامة (X) أمام العبارة الخاطئة:

10

1	الشمس من مكونات المجموعة الشمسية.	√
2	الأرض هي المكان الوحيد الذي توجد فيه الحياة بين سائر كواكب الكون.	√
3	شكل الأرض مثلثة.	X
4	تدور الأرض حول محورها في ثلاثون ساعة.	X
5	تعاقب الليل والنهار ينتج عن حركة الأرض حول محورها.	√
6	اعتمد المسلمون على قيم الإسلام في دراساتهم وأنشاء المعرفة.	√
7	الترجمة هي نقل العلوم من لغتها الأصلية إلى اللغة الفارسية.	X
8	يساعدنا التخطيط في المحافظة على الصحة من حيث انتظام النوم ومواعيد الوجبات.	√
9	لا يوجد ارتباط بين الفن الإسلامي والدين.	X
10	كان للعرب معرفة بالتجارة قبل الإسلام.	√

السؤال الثاني : اختر الإجابة الصحيحة:

10

1- تدور الأرض حول	أ - القمر	ب - الشمس	ج - الزهرة
2- هو الخط الوهمي المستقيم الواصل بين أبعد نقطتين على خط الاستواء	أ - القطر الاستوائي	ب - القطر القطبي	ج - القطر الشمالي
3- من المناطق الحرارية على سطح الأرض	أ - المنطقة الحارة	ب - المنطقتان المعتدلتان	ج - جميع ما سبق
4- يغطي 71% من مساحة سطح الأرضية	أ - الماء	ب - اليابسة	ج - الجبال
5- هو الأساس الأول للحضارة الإسلامية واعتمد على القرآن الكريم والسنة النبوية	أ - الأساس السياسي	ب - الأساس الديني	ج - الأساس العلمي
6- تعني المعاونة في تحمل أعباء الحكم	أ - بيت المال	ب - الإمارة	ج - الوزارة
7- من أسس النجاح إدارة الوقت بطريقة	أ - منظمة	ب - عشوائية	ج - غير منظمة
8- هو الإعداد المنظم لتحديد المهام والاعمال المستقبلية ومواعيد القيام بها وكيفية إنجازها	أ - الإدارة	ب - التخطيط	ج - الاقتصاد

9- لماذا نحتاج التخطيط		
أ - بناء شخصيتنا الوطنية	ب - الاستمتاع بالوقت	ج - جميع ما سبق
10- اعتنى المسلمون ب..... لأنها المصدر الاول لغذاء الانسان		
أ - الزراعة	ب - الصناعة	ج - التعليم

السؤال الثالث : اختر من المجموعة (أ) ما يناسبها في المجموعة (ب) مستعينا " بالأرقام"

10

المجموعة (أ)	الأرقام	المجموعة (ب)
1	3	حضارة بلاد الرافدين
2	5	علم الحديث
3	1	المجموعة الشمسية
4	7	حصر الاعمال اليومية
5	6	التخطيط
6	2	خط جرينتش
7	9	أكبر القارات
8	4	حفظ الامن ليلاً
9	10	أكبر المحيطات
10	8	علم الفيزياء

السؤال الرابع : اجب على الاسئلة الاتية:

10

1. عرف خطوط الطول؟
2. خطوط وهمية طويلة ترسم على شكل الكرة الارضية من القطب الشمالي الى القطب الجنوبي. كم عدد دوائر العرض؟
3. من الفصول المناخية الاربعة **الشتاء والصيف**
4. من خطوات تنظيم الوقت للمهام الدراسية اعداد قائمة الاعمال و كتابة جميع الاعمال في قائمة واحدة
5. عرف سطح الارض؟
6. هو كل ما على وجه الكرة الارضية من مرتفعات ومنخفضات.
7. ماهي الحضارة؟
8. هي تفاعل المجموعات البشرية مع البيئات المحيطة بهم.
9. بم تميزت عمارة المساجد؟
10. تميزت في اول امرها ببساطة البناء ثم تطورت واصبحت مثلاً رائعاً في فن العمارة والزخرفة الاسلامية.
11. لماذا اعتنى المسلمون ببناء الحصون والقلاع؟
12. لحماية حدود الدولة



أسئلة اختبار الفصل الدراسي الأول (الدور الأول) لعام ١٤٤٤ هـ

رقم الجلوس:

الصف:

اسم الطالب:

٤٠

١٠

أولاً: أسئلة الصواب والخطأ من (١) إلى (١٠):

ظل (أ) للعبارة الصحيحة و(ب) للعبارة الخاطئة فيما يلي:

١ س	شبه الجزيرة العربية مهد الحضارات ومنها انطلقت الهجرات.	()
٢ س	استفاد المسلمون من علوم الحضارات السابقة في مختلف الجوانب.	()
٣ س	ظهرت العناية ببناء القصور في عصر الخلفاء الراشدين.	()
٤ س	لم تكن للعرب معرفة بالتجارة قبل الإسلام.	()
٥ س	وزارة التفويض أن ينفذ الوزير أوامر الخليفة فقط.	()
٦ س	تنتمي المجموعة الشمسية لمجرة درب التبانة.	()
٧ س	كواكب المجموعة الشمسية جميعها ذات شكل كروي.	()
٨ س	أبعاد الأرض متساوية.	()
٩ س	خطوط الطول عبارة عن أنصاف دوائر متساوية في الطول.	()
١٠ س	تتركز اليابسة في نصف الكرة الأرضية الجنوبي.	()

٢٢

ثانياً: أسئلة الاختيار من متعدد من (١١) إلى (٣٢):

اختر الإجابة الصحيحة من بين البدائل فيما يلي ثم ظلها في ورقة الإجابة:

١١ س	تفاعل المجموعات البشرية مع البيئة المحيطة بها:	١٤ س	أنشئت الدواوين في عهد الخليفة:
(أ)	الحضارة	(أ)	أبو بكر الصديق ﷺ
(ب)	الوزارة	(ب)	عمر بن الخطاب ﷺ
(ج)	القضاء	(ج)	عثمان بن عفان ﷺ
(د)	التاريخ	(د)	علي بن أبي طالب ﷺ
١٢ س	سقطت إمبراطورية (الكلدانيين) على يد:	١٥ س	أول من أدخل نظام الشرطة في الإسلام:
(أ)	الفرس	(أ)	عمرو بن العاص ﷺ
(ب)	الرومان	(ب)	عمر بن الخطاب ﷺ
(ج)	الصينيين	(ج)	معاوية بن أبي سفيان ﷺ
(د)	الأكاديين	(د)	أبو بكر الصديق ﷺ
١٣ س	عرفت الكتابة (الهيروغليفية) في الحضارة:	١٦ س	العلم الذي يهتم ببيان معاني آيات القرآن الكريم هو علم:
(أ)	الصينية	(أ)	الفقه
(ب)	الفرعونية	(ب)	التفسير
(ج)	الإسلامية	(ج)	الحديث
(د)	الرومانية	(د)	التاريخ

تابع الأسئلة

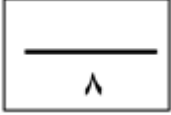
(١)

س١٧	من أشهر علماء المسلمين في علم الفيزياء:	س٢٣	أكبر كواكب المجموعة الشمسية:
(أ)	أبو الريحان البيروني	(أ)	زحل
(ب)	جابر بن حيان	(ب)	المريخ
(ج)	محمد الخوارزمي	(ج)	المشتري
(د)	سيبويه	(د)	الأرض
س١٨	اعتنى المسلمون ببناء القلاع والحصون:	س٢٤	يبلغ عدد دوائر العرض:
(أ)	لتكون عواصم للدول الإسلامية	(أ)	١٢٠ دائرة
(ب)	لأغراض اقتصادية	(ب)	١٥٠ دائرة
(ج)	لأغراض دينية	(ج)	١٨٠ دائرة
(د)	لحماية حدود الدولة	(د)	٣٦٠ دائرة
س١٩	العناية بتوفير وسائل الري ببناء السدود وإقامة الجسور من مظاهر العناية بـ:	س٢٥	خط الطول الرئيسي يسمى:
(أ)	الزراعة	(أ)	جرينتش
(ب)	الصناعة	(ب)	الاستواء
(ج)	التجارة	(ج)	الجلي
(د)	السياحة	(د)	السرطان
س٢٠	تعد صناعة الأسلحة من الصناعات:	س٢٦	يبلغ عدد المناطق الزمنية على سطح الأرض:
(أ)	المعدنية	(أ)	٢٨ منطقة
(ب)	الخزفية	(ب)	٢٠ منطقة
(ج)	الكيميائية	(ج)	٢٢ منطقة
(د)	الزجاجية	(د)	٢٤ منطقة
س٢١	كل ما يحيط بنا من نجوم ومجرات ومخلوقات حية:	س٢٧	درجة مدار السرطان:
(أ)	الكون	(أ)	٢٣,٥° جنوباً
(ب)	الشهب	(ب)	٢٣,٥° شمالاً
(ج)	النيازك	(ج)	٦٦,٥° شمالاً
(د)	الكواكب	(د)	٤٠° جنوباً
س٢٢	يبلغ عدد كواكب المجموعة الشمسية:	س٢٨	لا يشعر سكان الأرض بحركتها بسبب:
(أ)	خمسة	(أ)	كبر حجمها
(ب)	سبعة	(ب)	ثقلها
(ج)	ثمانية	(ج)	عدم انتظام حركتها
(د)	تسعة	(د)	استدارتها

تابع الأسئلة

س ٢٩	سبب تعاقب الليل والنهار:	س ٣١	أكبر قارات العالم مساحة:
(أ)	دوران الأرض حول الشمس	(أ)	آسيا
(ب)	ميل محور الأرض	(ب)	أستراليا
(ج)	دوران الأرض حول نفسها	(ج)	أوروبا
(د)	ثبات ميل محور الأرض	(د)	إفريقيا
س ٣٠	يحدث الصيف في شمال الكرة الأرضية عندما تتعامد أشعة الشمس على:	س ٣٢	يغطي الماء سطح الأرض بنسبة:
(أ)	مدار الجدي	(أ)	٧١ %
(ب)	خط الاستواء	(ب)	٧٣ %
(ج)	الدائرة القطبية الشمالية	(ج)	٢٩ %
(د)	مدار السرطان	(د)	٦٣ %

ثالثاً: الأسئلة المقالية:



س ٣٣ / اذكر أبرز عاملين لقيام الحضارات.

- ١-
- ٢-

س ٣٤ / ما الأسس التي قامت عليها الحضارة الإسلامية؟

- ١-
- ٢-
- ٣-
- ٤-

س ٣٥ / دون على الشكل ما يأتي:

أ- محور الأرض القطبي

ب- محور الأرض الاستوائي.



انتهت الأسئلة

معلم المادة :

يوسف خضر الرحيلي

(٣)

أسئلة اختبار الفصل الدراسي الأول (الدور الأول) لعام 1444 هـ

رقم الجلوس:

اسم

نموذج الإجابة

40

40

10

10

أولاً: أسئلة الصواب والخطأ من (1) إلى (10):

ظل (أ) للعبارة الصحيحة و (ب) للعبارة الخاطئة فيما يلي:

(✓)	س1	شبه الجزيرة العربية مهد الحضارات ومنها انطلقت الهجرات.
(✓)	س2	استفاد المسلمون من علوم الحضارات السابقة في مختلف الجوانب.
(✗)	س3	ظهرت العناية ببناء القصور في عصر الخلفاء الراشدين.
(✗)	س4	لم تكن للعرب معرفة بالتجارة قبل الإسلام.
(✗)	س5	وزارة التفويض أن ينفذ الوزير أوامر الخليفة فقط.
(✓)	س6	تنتمي المجموعة الشمسية لمجرة درب التبانة.
(✓)	س7	كواكب المجموعة الشمسية جميعها ذات شكل كروي.
(✗)	س8	أبعاد الأرض متساوية.
(✓)	س9	خطوط الطول عبارة عن أنصاف دوائر متساوية في الطول.
(✗)	س10	تتركز اليابسة في نصف الكرة الأرضية الجنوبي.

22

٢٢

ثانياً: أسئلة الاختيار من متعدد من (11) إلى (32):

اختر الإجابة الصحيحة من بين البدائل فيما يلي ثم ظلها في ورقة الإجابة:

أنشئت الدواوين في عهد الخليفة:	س14	تفاعل المجموعات البشرية مع البيئة المحيطة بها:	س11
أبو بكر الصديق τ	(أ)	الحضارة ①	(أ)
عمر بن الخطاب τ ①	(ب)	الوزارة	(ب)
عثمان بن عفان τ	(ج)	القضاء	(ج)
علي بن أبي طالب τ	(د)	التاريخ	(د)
أول من أدخل نظام الشرطة في الإسلام:	س15	سقطت إمبراطورية (الكلدانيين) على يد:	س12
عمر بن العاص τ ①	(أ)	الفرس ①	(أ)
عمر بن الخطاب τ	(ب)	الرومان	(ب)
معاوية بن أبي سفيان τ	(ج)	الصينيين	(ج)
أبو بكر الصديق τ	(د)	الأكاديين	(د)
العلم الذي يهتم ببيان معاني آيات القرآن الكريم هو علم:	س16	عرفت الكتابة (الهيروغليفية) في الحضارة:	س13
الفقه	(أ)	الصينية	(أ)
التفسير ①	(ب)	الفرعونية ①	(ب)
الحديث	(ج)	الإسلامية	(ج)
التاريخ	(د)	الرومانية	(د)

تابع الأسئلة

(1)

17س	من أشهر علماء المسلمين في علم الفيزياء:	23س	أكبر كواكب المجموعة الشمسية:
(أ)	أبو الريحان البيروني ①	(أ)	زحل
(ب)	جابر بن حيان	(ب)	المريخ
(ج)	محمد الخوارزمي	(ج)	المشتري ①
(د)	سيبويه	(د)	الأرض
18س	اعتنى المسلمون ببناء القلاع والحصون:	24س	يبلغ عدد دوائر العرض:
(أ)	لتكون عواصم للدول الإسلامية	(أ)	120 دائرة
(ب)	لأغراض اقتصادية	(ب)	150 دائرة
(ج)	لأغراض دينية	(ج)	180 دائرة ①
(د)	لحماية حدود الدولة ①	(د)	360 دائرة
19س	العناية بتوفير وسائل الري ببناء السدود وإقامة الجسور من مظاهر العناية بـ:	25س	خط الطول الرئيسي يسمى:
(أ)	الزراعة ①	(أ)	جرينتش ①
(ب)	الصناعة	(ب)	الاستواء
(ج)	التجارة	(ج)	الجدي
(د)	السياحة	(د)	السرطان
20س	تعد صناعة الأسلحة من الصناعات:	26س	يبلغ عدد المناطق الزمنية على سطح الأرض:
(أ)	المعدنية ①	(أ)	28 منطقة
(ب)	الخزفية	(ب)	20 منطقة
(ج)	الكيميائية	(ج)	22 منطقة
(د)	الزجاجية	(د)	24 منطقة ①
21س	كل ما يحيط بنا من نجوم ومجرات ومخلوقات حية:	27س	درجة مدار السرطان:
(أ)	الكون ①	(أ)	23,5° جنوباً
(ب)	الشهب	(ب)	23.5° شمالاً ①
(ج)	النيازك	(ج)	66.5° شمالاً
(د)	الكواكب	(د)	40° جنوباً
22س	يبلغ عدد كواكب المجموعة الشمسية:	28س	لا يشعر سكان الأرض بحركتها بسبب:
(أ)	خمسة	(أ)	كبر حجمها ①
(ب)	سبعة	(ب)	ثقلها
(ج)	ثمانية ①	(ج)	عدم انتظام حركتها
(د)	تسعة	(د)	استدارتها

تابع الأسئلة

س29	سبب تعاقب الليل والنهار:	س31	أكبر قارات العالم مساحة:
(أ)	دوران الأرض حول الشمس	(أ)	آسيا ①
(ب)	ميل محور الأرض	(ب)	أستراليا
(ج)	دوران الأرض حول نفسها ①	(ج)	أوروبا
(د)	ثبات ميل محور الأرض	(د)	إفريقيا
س30	يحدث الصيف في شمال الكرة الأرضية عندما تتعامد أشعة الشمس على:	س32	يغطي الماء سطح الأرض بنسبة:
(أ)	مدار الجدي	(أ)	71 % ①
(ب)	خط الاستواء	(ب)	73 %
(ج)	الدائرة القطبية الشمالية	(ج)	29 %
(د)	مدار السرطان ①	(د)	63 %

ثالثاً: الأسئلة المقالية:

8
8

2
2

س33/ اذكر أبرز عاملين لقيام الحضارات.

1- الموقع والتضاريس

2- المناخ

س34/ ما الأسس التي قامت عليها الحضارة الإسلامية؟

1- الأساس الديني

2- الأساس اللغوي

3- الأساس العلمي

4- الأساس الأخلاقي

4
4

س35/ دون على الشكل ما يأتي:

أ- محور الأرض القطبي

ب- محور الأرض الاستوائي.

2
2



انتهت الأسئلة

(3)

معلم المادة :

يوسف خضر الرحيلي



أسئلة اختبار الفصل الدراسي الأول (الدور الأول) لعام ١٤٤٤ هـ

رقم الجلوس:

الصف:

اسم الطالب:

٤٠

١٦

أولاً: أسئلة الصواب والخطأ من (١) إلى (١٢):

ظل (أ) للعبارة الصحيحة و (ب) للعبارة الخاطئة فيما يلي:

١ س	شبه الجزيرة العربية مهد الحضارات ومنها انطلقت الهجرات.	()
٢ س	عرفت الكتابة (الهيروغليفية) في الحضارة الصينية.	()
٣ س	يعد الأساس اللغوي هو الأساس الأول للحضارة الإسلامية.	()
٤ س	استفاد المسلمون من علوم الحضارات السابقة في مختلف الجوانب.	()
٥ س	اعتنى المسلمون بعلم التاريخ لارتباطه بالعلوم الشرعية.	()
٦ س	ارتبط الفن الإسلامي بالدين ارتباطاً وثيقاً.	()
٧ س	لم تكن للعرب معرفة بالتجارة قبل الإسلام.	()
٨ س	الكوكب جسم كروي صلب يشع ضوءاً	()
٩ س	شكل الأرض كامل الاستدارة.	()
١٠ س	حركة الأرض حول محورها تسمى بالحركة اليومية.	()
١١ س	دوائر العرض عبارة عن دوائر كاملة متوازية وغير متساوية في الطول.	()
١٢ س	تتركز اليابسة في نصف الكرة الأرضية الشمالي.	()

٢٨

ثانياً: أسئلة الاختيار من متعدد من (١٣) إلى (٤٠):

اختر الإجابة الصحيحة من بين البدائل فيما يلي ثم ظلها في ورقة الإجابة:

١٣ س	أول الشعوب التي سكنت جنوب العراق:	١٥ س	انتهى العصر الفرعوني على يد:
(أ)	الأكاديون	(أ)	السومريون
(ب)	الكلدانيون	(ب)	الفرس
(ج)	الأشوريون	(ج)	الرومان
(د)	السومريون	(د)	العرب
١٤ س	قامت حضارة بلاد الرافدين على ضفاف نهر:	١٦ س	من النظم السياسية في الإسلام:
(أ)	دجلة والفرات	(أ)	الوزارة
(ب)	النيل الأبيض والأزرق	(ب)	الإمارة
(ج)	الأصفر ومنطقة اليانغتسي	(ج)	الشرطة
(د)	سيحون وجيحون	(د)	القضاء

تابع الأسئلة



س١٧	تعني المعاونة في تحمل أعباء الحكم:	س٢٣	العناية بتوفير وسائل الري ببناء السدود وإقامة الجسور من مظاهر العناية بـ :
(أ)	الخلافة	(أ)	الزراعة
(ب)	الوزارة	(ب)	الصناعة
(ج)	البيعة	(ج)	التجارة
(د)	الدواوين	(د)	السياحة
س١٨	تحول الجيش الإسلامي إلى جيش نظامي في عهد الخليفة:	س٢٤	اعتنى المسلمون بـ لأنها المصدر الأول لغذاء الإنسان:
(أ)	عثمان بن عفان ؓ	(أ)	المعادن
(ب)	علي بن أبي طالب ؓ	(ب)	التجارة
(ج)	عمر بن الخطاب ؓ	(ج)	الصناعة
(د)	أبو بكر الصديق ؓ	(د)	الزراعة
س١٩	من منجزات المسلمين في علم الرياضيات:	س٢٥	تعد صناعة الأدوية من الصناعات:
(أ)	تنقية المعادن	(أ)	المعدنية
(ب)	دراسة الضوء والصوت	(ب)	الغذائية
(ج)	اختراع الصفر	(ج)	الكيميائية
(د)	اكتشاف الكثافة	(د)	الزجاجية
س٢٠	نقل العلوم من لغتها الأصلية إلى اللغة العربية:	س٢٦	تنتمي مجموعتنا الشمسية لمجرة:
(أ)	الحضارة	(أ)	زهرة الشمس
(ب)	الفنون	(ب)	درب التبانة
(ج)	الترجمة	(ج)	المذنب
(د)	العمارة	(د)	العين
س٢١	من أشهر المساجد التي بناها المسلمون في دمشق:	س٢٧	يبلغ عدد كواكب المجموعة الشمسية:
(أ)	مسجد عقبة بن نافع	(أ)	خمسة
(ب)	المسجد الأموي	(ب)	سبعة
(ج)	المسجد الأقصى	(ج)	ثمانية
(د)	مسجد القبلتين	(د)	تسعة
س٢٢	اعتنى المسلمون ببناء القلاع والحصون:	س٢٨	أصغر كواكب المجموعة الشمسية:
(أ)	لتكون عواصم للدول الإسلامية	(أ)	زحل
(ب)	لأغراض اقتصادية	(ب)	عطارد
(ج)	لأغراض دينية	(ج)	المشتري
(د)	لحماية حدود الدولة	(د)	الأرض

تابع الأسئلة



س ٢٩	ترتيب الأرض من حيث القرب من الشمس:	س ٣٥	لا يشعر سكان الأرض بحركتها بسبب:
(أ)	الأول	(أ)	كبر حجمها
(ب)	الثاني	(ب)	ثقلها
(ج)	الثالث	(ج)	عدم انتظام حركتها
(د)	الرابع	(د)	استدارتها
س ٣٠	أول رائد فضاء عربي مسلم صاحب السمو الملكي الأمير بن سلمان بن عبد العزيز:	س ٣٦	سبب تعاقب الليل والنهار:
(أ)	تركي	(أ)	دوران الأرض حول الشمس
(ب)	بندر	(ب)	ميل محور الأرض
(ج)	سلطان	(ج)	دوران الأرض حول نفسها
(د)	أحمد	(د)	ثبات ميل محور الأرض
س ٣١	الخط الوهمي المستقيم الواصل بين القطبين والمار بمركز الأرض يعرف بـ :	س ٣٧	يحدث الشتاء في شمال الكرة الأرضية عندما تتعامد أشعة الشمس على:
(أ)	القطر القطبي	(أ)	مدار الجدي
(ب)	خط الاستواء	(ب)	خط الاستواء
(ج)	خط جرينتش	(ج)	الدائرة القطبية الشمالية
(د)	القطر الاستوائي	(د)	مدار السرطان
س ٣٢	عدد خطوط الطول:	س ٣٨	أصغر قارات العالم مساحة:
(أ)	٩٠ خطاً	(أ)	آسيا
(ب)	١٨٠ خطاً	(ب)	أستراليا
(ج)	٢٧٠ خطاً	(ج)	أوروبا
(د)	٣٦٠ خطاً	(د)	إفريقيا
س ٣٣	تفيد خطوط الطول في تحديد:	س ٣٩	يغطي الماء سطح الأرض بنسبة:
(أ)	الأقاليم المناخية	(أ)	٧١ %
(ب)	خط الاستواء	(ب)	٧٣ %
(ج)	الزمن	(ج)	٢٩ %
(د)	الارتفاع والانخفاض	(د)	٦٣ %
س ٣٤	درجة مدار الجدي:	س ٤٠	أكبر المحيطات مساحة:
(أ)	٢٣,٥° جنوباً	(أ)	المحيط الهندي
(ب)	٢٣,٥° شمالاً	(ب)	المحيط الهادئ
(ج)	٦٦,٥° شمالاً	(ج)	المحيط الأطلسي
(د)	٤٠° جنوباً	(د)	المحيط الجنوبي

انتهت الأسئلة

معلم المادة :

يوسف خضر الرحيلي

أسئلة اختبار الفصل الدراسي الأول (الدور الأول) لعام 1444هـ

رقم الجلوس:

الصف:

اسم الطالب: نموذج الإجابة

40

40

12

12

أولاً: أسئلة الصواب والخطأ من (1) إلى (12):

ظل (أ) للعبارة الصحيحة و (ب) للعبارة الخاطئة فيما يلي:

(✓)	س1	شبه الجزيرة العربية مهد الحضارات ومنها انطلقت الهجرات.
(✗)	س2	عرفت الكتابة (الهيروغليفية) في الحضارة الصينية.
(✗)	س3	يعد الأساس اللغوي هو الأساس الأول للحضارة الإسلامية.
(✓)	س4	استفاد المسلمون من علوم الحضارات السابقة في مختلف الجوانب.
(✗)	س5	اعتنى المسلمون بعلم التاريخ لارتباطه بالعلوم الشرعية.
(✓)	س6	ارتبط الفن الإسلامي بالدين ارتباطاً وثيقاً.
(✗)	س7	لم تكن للعرب معرفة بالتجارة قبل الإسلام.
(✗)	س8	الكوكب جسم كروي صلب يشع ضوءاً.
(✗)	س9	شكل الأرض كامل الاستدارة.
(✓)	س10	حركة الأرض حول محورها تسمى بالحركة اليومية.
(✓)	س11	دوائر العرض عبارة عن دوائر كاملة متوازية وغير متساوية في الطول.
(✓)	س12	تتركز اليابسة في نصف الكرة الأرضية الشمالي.

28

28

ثانياً: أسئلة الاختيار من متعدد من (13) إلى (40):

اختر الإجابة الصحيحة من بين البدائل فيما يلي ثم ظللها في ورقة الإجابة:

س13	أول الشعوب التي سكنت جنوب العراق:	س15	انتهى العصر الفرعوني على يد:
(أ)	الأكاديون	(أ)	السومريون
(ب)	الكلدانيون	(ب)	الفرس
(ج)	الآشوريون	(ج)	الرومان 1
(د)	السومريون 1	(د)	العرب
س14	قامت حضارة بلاد الرافدين على ضفاف نهر:	س16	من النظم السياسية في الإسلام:
(أ)	دجلة والفرات 1	(أ)	الوزارة 1
(ب)	النيل الأبيض والأزرق	(ب)	الإمارة
(ج)	الأصفر ومنطقة اليانغتسي	(ج)	الشرطة
(د)	سيحون وجيحون	(د)	القضاء

تابع الأسئلة



17س	تعني المعاونة في تحمل أعباء الحكم:	23س	العناية بتوفير وسائل الري ببناء السدود وإقامة الجسور من مظاهر العناية بـ :
(أ)	الخلافة	(أ)	الزراعة 1
(ب)	الوزارة 1	(ب)	الصناعة
(ج)	البيعة	(ج)	التجارة
(د)	الدواوين	(د)	السياحة
18س	تحول الجيش الإسلامي إلى جيش نظامي في عهد الخليفة:	24س	اعتنى المسلمون بـ لأنها المصدر الأول لغذاء الإنسان:
(أ)	عثمان بن عفان τ	(أ)	المعادن
(ب)	علي بن أبي طالب τ	(ب)	التجارة
(ج)	عمر بن الخطاب τ 1	(ج)	الصناعة
(د)	أبو بكر الصديق τ	(د)	الزراعة 1
19س	من منجزات المسلمين في علم الرياضيات:	25س	تعد صناعة الأدوية من الصناعات:
(أ)	تنقية المعادن	(أ)	المعدنية
(ب)	دراسة الضوء والصوت	(ب)	الغذائية
(ج)	اختراع الصفر 1	(ج)	الكيميائية 1
(د)	اكتشاف الكثافة	(د)	الزجاجية
20س	نقل العلوم من لغتها الأصلية إلى اللغة العربية:	26س	تنتمي مجموعة عنا الشمسية لمجرة:
(أ)	الحضارة	(أ)	زهرة الشمس
(ب)	الفنون	(ب)	درب التبانة 1
(ج)	الترجمة 1	(ج)	المنذب
(د)	العمارة	(د)	العين
21س	من أشهر المساجد التي بناها المسلمون في دمشق:	27س	يبلغ عدد كواكب المجموعة الشمسية:
(أ)	مسجد عقبة بن نافع	(أ)	خمسة
(ب)	المسجد الأموي 1	(ب)	سبعة
(ج)	المسجد الأقصى	(ج)	ثمانية 1
(د)	مسجد القبليتين	(د)	تسعة
22س	اعتنى المسلمون ببناء القلاع والحصون:	28س	أصغر كواكب المجموعة الشمسية:
(أ)	لتكون عواصم للدول الإسلامية	(أ)	زحل
(ب)	لأغراض اقتصادية	(ب)	عطارد 1
(ج)	لأغراض دينية	(ج)	المشتري
(د)	لحماية حدود الدولة 1	(د)	الأرض

تابع الأسئلة

29س	ترتيب الأرض من حيث القرب من الشمس:	35س	لا يشعر سكان الأرض بحركتها بسبب:
(أ)	الأول	(أ)	كبر حجمها 1
(ب)	الثاني	(ب)	ثقلها
(ج)	الثالث 1	(ج)	عدم انتظام حركتها
(د)	الرابع	(د)	استدارتها
30س	أول راند فضاء عربي مسلم صاحب السمو الملكي الأمير بن سلمان بن عبد العزيز:	36س	سبب تعاقب الليل والنهار:
(أ)	تركي	(أ)	دوران الأرض حول الشمس
(ب)	بندر	(ب)	ميل محور الأرض
(ج)	سلطان 1	(ج)	دوران الأرض حول نفسها 1
(د)	أحمد	(د)	ثبات ميل محور الأرض
31س	الخط الوهمي المستقيم الواصل بين القطبين والمار بمركز الأرض يعرف بـ:	37س	يحدث الشتاء في شمال الكرة الأرضية عندما تتعامد أشعة الشمس على:
(أ)	القطر القطبي 1	(أ)	مدار الجدي 1
(ب)	خط الاستواء	(ب)	خط الاستواء
(ج)	خط جرينتش	(ج)	الدائرة القطبية الشمالية
(د)	القطر الاستوائي	(د)	مدار السرطان
32س	عدد خطوط الطول:	38س	أصغر قارات العالم مساحة:
(أ)	90 خطاً	(أ)	آسيا
(ب)	180 خطاً	(ب)	أستراليا 1
(ج)	270 خطاً	(ج)	أوروبا
(د)	360 خطاً 1	(د)	إفريقيا
33س	تفيد خطوط الطول في تحديد:	39س	يغطي الماء سطح الأرض بنسبة:
(أ)	الأقاليم المناخية	(أ)	71 % 1
(ب)	خط الاستواء	(ب)	73 %
(ج)	الزمن 1	(ج)	29 %
(د)	الارتفاع والانخفاض	(د)	63 %
34س	درجة مدار الجدي:	40س	أكبر المحيطات مساحة:
(أ)	23,5° جنوباً 1	(أ)	المحيط الهندي
(ب)	23.5° شمالاً	(ب)	المحيط الهادئ 1
(ج)	66.5° شمالاً	(ج)	المحيط الأطلسي
(د)	40° جنوباً	(د)	المحيط الجنوبي

انتهت الأسئلة

معلم المادة :

يوسف خضر الرحيلي

الدراسات الاجتماعية	المادة	1443 هـ	العام الدراسي
ساعتان	الزمن	الأول	الفصل الدراسي
الأول متوسط	الصف	الأول	الدور

اسم الطالب	رقم الجلوس
------------	------------

بيان تقدير الدرجات						
المراجع		المصحح		الدرجة المستحقة		رقم السؤال
التوقيع	الاسم	التوقيع	الاسم	كتابة	رقماً	
						1
						2
						3
						4
راجعه:		جمعه:				المجموع

(12 درجة)

السؤال الأول :

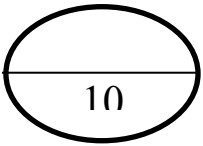
أ) اختر الرقم المناسب من المجموعة الأولى ثم ضعه أمام ما يناسب من المجموعة الثانية ؟

22

المجموعة الثانية		المجموعة الأولى	
نبيئون		أكبر قارات العالم	1
الزراعة		أكبر محيطات العالم	2
الهادي		أقرب كوكب للشمس	3
آسيا		أبعد كوكب عن الشمس	4
الوزارة		المصدر الأول لغذاء الانسان	5
المشتري		تعني المعاونة في تحمل أعباء الحكم	6

ب- ضع علامة (صح) أمام الإجابة الصحيحة وعلامة (خطأ) أمام الإجابة الخاطئة : (10 درجات)

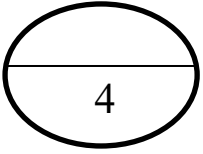
- 1- الحضارة هي تفاعل المجموعات البشرية مع البيئات المحيطة بهم { }
- 2- الموقع والتضاريس من العوامل التي تسهم في قيام الحصارات { }
- 3- نشأت حضارة بلاد الرافدين في سوريا { }
- 4- استمرت حضارة مصر القديمة 3000 سنة { }
- 5- غزا الرومان مصر عام 30 ق.م { }
- 6- أطول الحضارات زمنًا هي الحضارة الفرعونية { }
- 7- من أسس الحضارة الإسلامية الأساس السياسي و الأساس اللغوي { }
- 8- الامارة هي تعيين العمال والولاية على أجزاء من البلاد الإسلامية { }
- 9- من العلماء المسلمين في علم الفيزياء جابر بن حيان { }
- 10- من أشهر علماء النحو سيبويه { }



السؤال الثاني:

اختر الاجابة الصحيحة بوضع دائرة على الحرف المناسب في الخيارات ؟

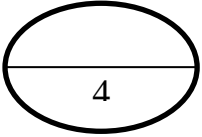
1/ هم الجند الذين يعتمد عليهم أو الوالي في استتباب الامن وحفظ النظام والقبض على الجناة :							
أ	الشرطة	ب	العسس	ج	الجيش	د	القضاة
2 / هم رجال يتولون حفظ الأمن ليلاً:							
أ	القضاة	ب	الشرطة	ج	العسس	د	الجيش
3 / من العلوم الطبيعية في الحضارة الاسلامية:							
أ	الفزياء	ب	الكيمياء	ج	الرياضيات	د	جميع ما سبق
4 / أول من رسم الخرائط وأصبحت أساساً لخرائط العالم هو:							
أ	حسان بن النعمان	ب	الادريسي	ج	ابوالريحان البيروني	د	بن حنبل
5 / من الاجسام الكونية :							
أ	الشهب	ب	النيازك	ج	المذنبات	د	جميع ما سبق



السؤال الثالث :

أكمل الفراغات التالية :

1. الكواكب القريبة من الشمس شديدة
2. الكواكب البعيدة عن الشمس شديدة
3. أول رائد فضاء عربي مسلم هو
4. الخط الرئيسي لخطوط الطول هو



السؤال الرابع :

أجب عما يلي :

عدد أربعة من أهم دوائر العرض ؟

- 1
- 2
- 3
- 4

أسئلة اختبار مادة الاجتماعيات للصف الأول المتوسط للفصل الدراسي الأول لعام 1445

السؤال الأول :

اختاري الإجابة الصحيحة مما يأتي :

1-دوائر العرض تفيد في تحديد :

أ- الزمن ب-المناطق الحرارية ج-خط جرينتش د-المناطق الإدارية

2-عدد خطوط الطول

أ-360 خطا ب-180 خطا ج-270خطا د-450 خطا

3-مدار الجدي

أ-23,5 درجة جنوبا ب-23,5 درجة شمالا ج-66,5 درجة جنوبا د-66.5 درجة شمالا

4-عدد كواكب المجموعة الشمسية

أ-سبعة ب-ثمانية ج-ستة عشر د-تسعة

5-ترتيب الأرض من حيث القرب من الشمس

أ-الأول ب- الثاني ج-الثالث د-الرابع

6-تعد صناعة الادوية من الصناعات

أ-الغذائية ب- الكيماوية ج-الزجاجية د-الفيزيائية

7-أنشئت الدواوين في عهد الخليفة

أ-عمر بن الخطاب رضى الله عنه ب-ابي بكر الصديق رضى الله عنه ج-علي بن ابي طالب رضى الله عنه

د-عثمان بن عفان رضى الله عنه

8-يحدث الصيف في شمال الكرة الأرضية عندما تتعامد اشعة الشمس على

أ-مدار السرطان ب- مدار الجدي ج- خط الاستواء د- درب التبانة

يتبع

9-تنقسم اليابسة الى

أ-سبع كتل كبرى ب-ثمان كتل كبرى ج-تسع كتل كبرى د-خمس كتل كبرى

10 يغطي الماء.....من مساحة سطح الأرض

أ-71% ب-72% ج-29% د-30%

السؤال الثاني :

ضعي علامة صح امام العبارة الصحيحة وخطا امام العبارة الخاطئة مما يأتي

1-من مكونات المجموعة الشمسية أجسام كونية مثل الكويكبات ()

2-من الخصائص المشتركة للمجموعة الشمسية تدور حول محورها ()

3-أكبر كواكب المجموعة الشمسية حجما هو المشتري ()

4-شكل الأرض كامل الاستدارة ()

5-يمتد محور الأرض القطبي من الشمال الى الجنوب ()

6-من فوائد تنظيم الوقت الحد من التوتر والقلق ()

7-تعتني رؤية 2030 بتحقيق شخصية وطنية تحرص على التخطيط ()

8-تحديد الأعمال بدون الزمن ()

9-وضع جميع الأعمال اليومية المهمة وغير المهمة ()

10-من أمثلة العمارة الإسلامية بناء السدود والجسور ()

السؤال الثالث :

أ- فسري مما يأتي :

1-العناية بعلم التاريخ ؟

.....

2-تعاقب الليل والنهار

.....

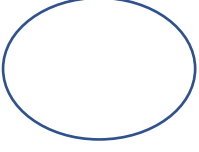
3-أننا لا نشعر بحركة دوران الأرض

.....

يتبع

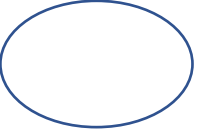
ب- اكتب المصطلح المناسب مما يأتي :

- 1- المرتفعات والمنخفضات التي على سطح الأرض (.....)
2- تفاعل المجموعات البشرية مع البيئات المحيطة بهم (.....)
3- نقل الرسائل بين الخليفة وولاة الأقاليم (.....)



ج- عددي اثنان فقط مما يأتي :

- 1- العلوم الشرعية
-1
-2



2- حركات الأرض

- 1
-2

3- المحيطات التي تحيط بقارة اسيا

- 1
-2

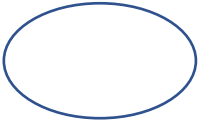
4- خصائص خطوط الطول

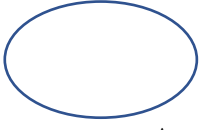
- 1
-2

السؤال الرابع:

أ- أكمل الفراغات التالية بما يناسبها:

- 1- الكواكب القريبة من الشمس شديدة
2- الكواكب البعيدة من الشمس شديدة
3- أصغر كواكب المجموعة الشمسية حجما
4- يحل فصل الربيع في نصف الأرض الشمالي ويقابله في نصف الأرض الجنوبي
5- يساعدنا التخطيط على ويحقق لنا مجالا للاستمتاع بالوقت عندما جيدا .





ب-صنفي المنجزات حسب علومها في الجدول الاتي:(علم الفلك ، علم الرياضيات ، علم الطب ، علم الصيدلة ، علم الكيمياء)

المنجزات	علومها
1-بناء المراصد	
2-اختراع الصفر	
3-بناء المستشفيات	
4-اختراع أدوات طبية	
5-تقنية المعادن وعمليات التقطير	

ج- صححي العبارات الخاطئة التي تحتها خط :

1	لا أستمتع بوقتي عندما أخطط جيدا
2	أول بيت وضع للناس المسجد الأقصى في مكة المكرمة
3	قسمت دول العالم إلى سبع وعشرون منطقة زمنية
4	اقتصرت الزراعة في البلاد الإسلامية على محصول واحد
5	الوزارة سجل يدون فيه الاعمال والأموال المتعلقة بالدولة
6	التخطيط يزيد من التوتر والقلق

أنتهت الأسئلة أمنيائي لكن بالتوفيق /أ

نموذج الإجابة

السؤال الأول / اختار الإجابة الصحيحة فيما يلي بوضع دائرة حولها:

15

1	الأساس الأول للحضارة الإسلامية وأصلها الذي اعتمدت عليه :	أ	الأساس الديني	ب	الأساس اللغوي	ج	الأساس العلمي
2	من فوائد خطوط الطول ودوائر العرض تحديد الموقع وتحديد :	أ	الارتفاع و الانخفاض	ب	الزمن و المناخ	ج	المسافة و السرعة
3	الحوار الذي يجرى بين أبناء الوطن لمناقشة القضايا التي تفيد الوطن هو الحوار :	أ	التربوي	ب	الرياضي	ج	الوطني
4	هم الجند الذين يعتمد عليهم الخليفة في حفظ الأمن ليلاً :	أ	العسس	ب	الشرطة	ج	الجنود
5	أول رائد فضاء مسلم عربي الأمير :	أ	خالد بن سعود	ب	سلطان بن سلمان	ج	سلمان بن فهد
6	يعد المسلمون أول من أدخل السكر في تحلية بعض :	أ	المأكولات	ب	المشروبات	ج	الأدوية
7	اعتنى المسلمون بعلم الفلك وذلك لارتباطه بالعلوم :	أ	الشرعية	ب	العربية	ج	الطبيعية
8	من فوائد الحوار :	أ	فهم الجانب المظلم	ب	فهم الآراء الأخرى	ج	فهم الأشياء القديمة
9	العوامل التي تسهم في قيام الحضارات المناخ و :	أ	الغابات و الصحاري	ب	السهول و الجبال	ج	الموقع و التضاريس
10	بني الصينيين سور الصين العظيم من أجل عدوهم الشرس :	أ	المغول	ب	الفرس	ج	الروم
11	ترتيب الأرض من حيث القرب من الشمس :	أ	الثاني	ب	الثالث	ج	الأول
12	يسهم التخطيط في بناء الشخصية الوطنية والتي تعد من أهداف رؤية :	أ	2032	ب	2031	ج	2030
13	عدد خطوط الطول :	أ	360 خطاً	ب	180 خطاً	ج	270 خطاً
14	من نتائج حركة الأرض حول الشمس :	أ	الفصول الأربعة	ب	اختلاف الزمن	ج	انحراف الاجسام
15	قسمت الأرض الى مناطق حرارية وفقاً لاختلاف زاوية :	أ	انحراف الرياح	ب	أشعة الشمس	ج	ميلان الارض

تابع الأسئلة في الصفحة التالية



السؤال الثاني/ ضع علامة (√) أمام العبارة الصحيحة وعلامة (x) أمام العبارة غير الصحيحة:

15

(<input checked="" type="checkbox"/>) .	1. استفاد المسلمون من علوم الحضارات القديمة
(<input checked="" type="checkbox"/>) .	2. اهتم علم التفسير بمعاني آيات القرآن الكريم
(<input checked="" type="checkbox"/>) .	3. اقتصرت الزراعة في البلاد الإسلامية على محصول واحد
(<input checked="" type="checkbox"/>) .	4. بناء المسلمين المدن الإسلامية لأغراض عسكرية فقط
(<input checked="" type="checkbox"/>) .	5. ارتبط الفن الإسلامي بالدين الإسلامي ارتباطاً وثيقاً
(<input checked="" type="checkbox"/>) .	6. الكواكب القريبة للشمس شديدة الحرارة بعكس الكواكب البعيدة منها
(<input checked="" type="checkbox"/>) .	7. شكل الأرض كامل الاستدارة لان أبعاده متساوية
(<input checked="" type="checkbox"/>) .	8. خطوط الطول ودوائر العرض شبكة حقيقيه ترسم على سطح الأرض
(<input checked="" type="checkbox"/>) .	9. لا نشعر بحركة الأرض لأنها تدور وفق نظام محكم دقيق
(<input checked="" type="checkbox"/>) .	10. تغمر مياه المحيطات أغلب مساحة سطح الكرة الأرضية
(<input checked="" type="checkbox"/>) .	11. الناجحون في حياتهم لا يخططون
(<input checked="" type="checkbox"/>) .	12. رفع الصوت يساعد على قبول الرأي الآخر
(<input checked="" type="checkbox"/>) .	13. من أسس نجاح الحوار تحديد الموضوع للحوار والهدف منه
(<input checked="" type="checkbox"/>) .	14. في القرآن الكريم آيات تدل على ثقافة الحوار في الإسلام
(<input checked="" type="checkbox"/>) .	15. إنجاز الأعمال في وقتها من فوائد تنظيم الوقت

تابع الأسئلة في الصفحة التالية



الرقم	المصطلح	الرقم	الجملة
1	التبانة	٨	وضعوا أسس علم الرياضيات فاستخدموا الترقيم واخترعوا الصفر
2	الأجسام الكونية	٥	مدن صغيرة محصنة تحتوى على أماكن لإقامة و المرافق العامة
3	الوقت	٧	تفاعل مجموعات البشرية مع البيئة المحيطة بهم
4	التوازن	١	تنتمي مجموعتنا الشمسية إلى مجرة درب
5	القلع و الحصون	٢	تعد الكويكبات والشهب والنيازك والمذنبات من
6	الحوار	٣	يقوم التخطيط على أساس تنظيم
7	الحضارة	٤	تنظيم الوقت بين الدراسة والأسرة يحقق
8	المسلمون	٦	تبادل الحديث بين طرفين أو أكثر في قضية محددة يطلق عليه بـ

2

السؤال الرابع / للأرض حركتان هما :

1.

2.

انتهت الأسئلة .. مع تمنياتي لكم بالتوفيق والسداد ..

معلم المادة :
مهند محمد الطويرقي