

الاختبار القصير الأول للفصل الدراسي الثاني / للصف الثالث / العام 2017 – 2018 مادة الدراسات الإجتماعية والتربية الوطنية

20

الاسم: .....

الصف: الثالث /

السؤال الأول: ضع علامة ( ✓ ) أمام العبارة الصحيحة و علامة ( x ) أمام العبارة الخاطئة :

5

1. تشرق الشمس من الشرق ، وتغرب من الجنوب . ( )

2. الجهات الأصلية هي الشرق والغرب والشمال والجنوب. ( )

3. يُشير مؤشر البوصلة دائماً إلى جهة الشمال. ( )


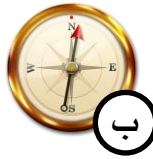
4. الخريطة: نسخة طبق الأصل لما نراه حولنا في الطبيعة كما هو في الحقيقة. ( )

5. الصورة: رسم مصغر للظواهر الموجودة على سطح الأرض ، بمقياس رسم معين . ( )


2

السؤال الثاني: أضع دائرة حول الإجابة الصحيحة :

1. جهاز دقيق لتحديد الجهات ليلاً ونهاراً ، نستخدمه في السفن والطائرات.



2. أرض جافة قليلة المطر وقليلة النباتات .



أ.مهلة الحمادي

3

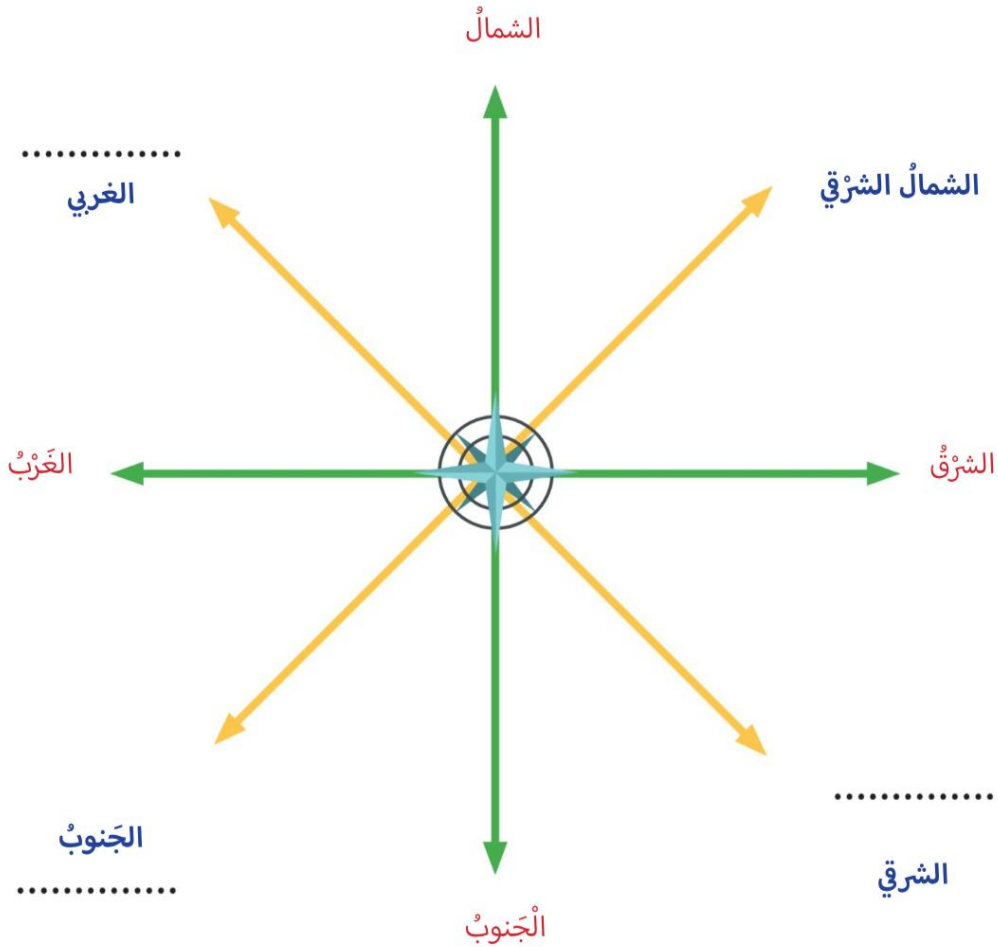
السؤال الثالث : كتابة الرقم الموجود أمام كل كلمة بجانب الصورة المناسبة :

1. سباق الهجن	2. التزحلق على الرمال	3. الكرم
---------------	-----------------------	----------



السؤال الرابع: أكمل الجهات الفرعية الناقصة , مع تحديد رسمًا من أي جهة تشرق الشمس ومن أي جهة تغرب :

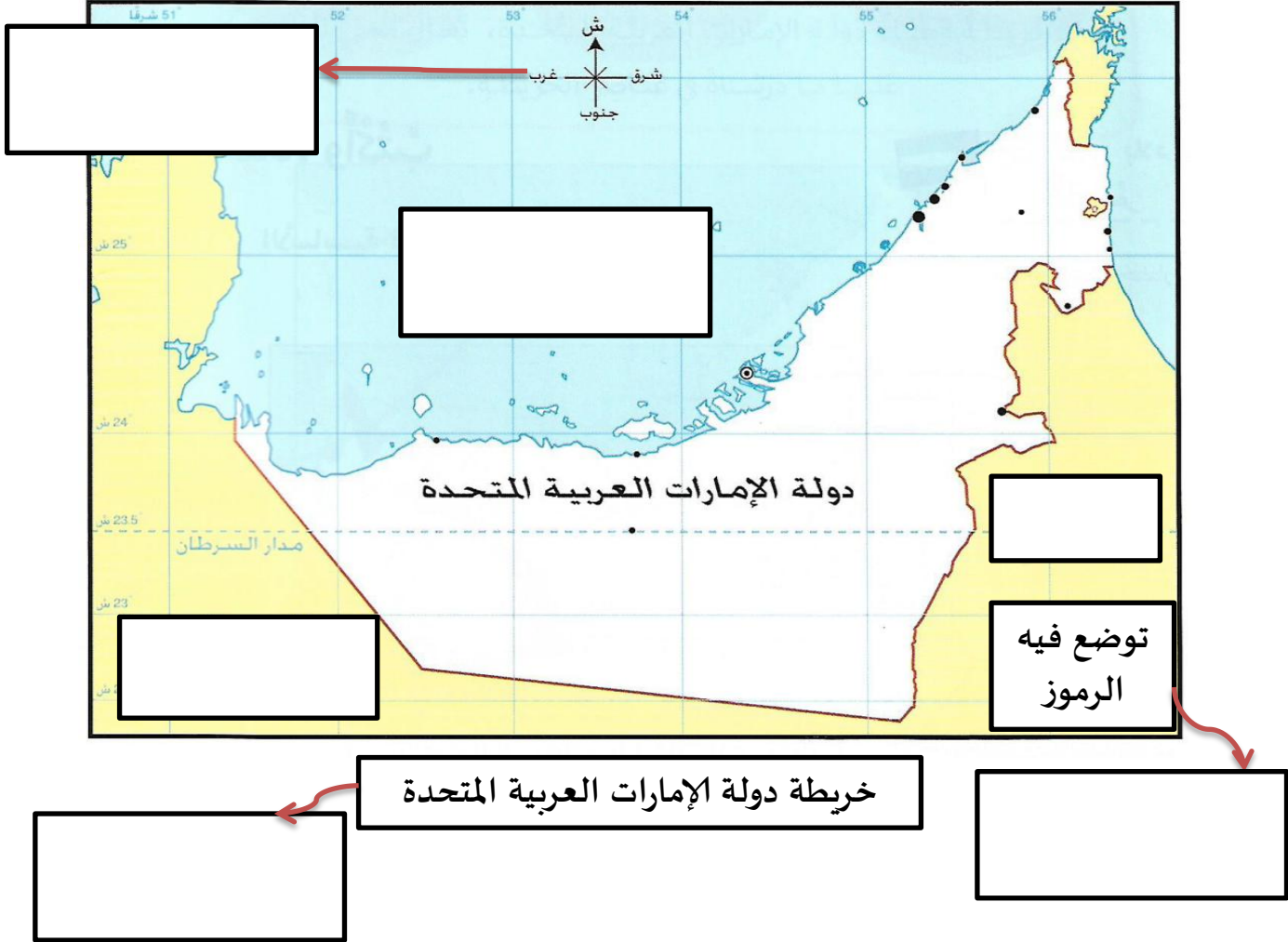
4



6

السؤال الخامس : أكمل الخريطة بما يناسبها من الكلمات :

المفتاح ، العنوان ، الجهات ، الخليج العربي ، السعودية ، عُمان



مع تمنياتي لكم بالتوفيق