



مؤسسة الإمارات
للتعليم المدرسي
EMIRATES SCHOOLS
ESTABLISHMENT

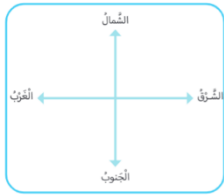
إسمي :

صفى الأول ()

اختبار تكويني 1

مادة التربية الوطنية

السؤال أول : صل بين الكلمة وما ينسبها من الصور :



الكرة الأرضية

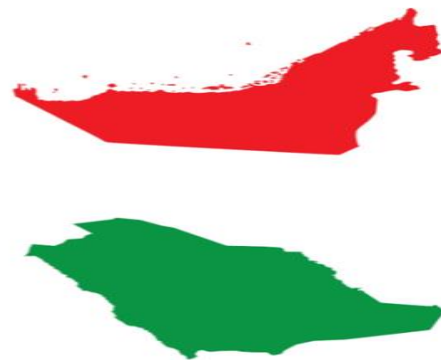
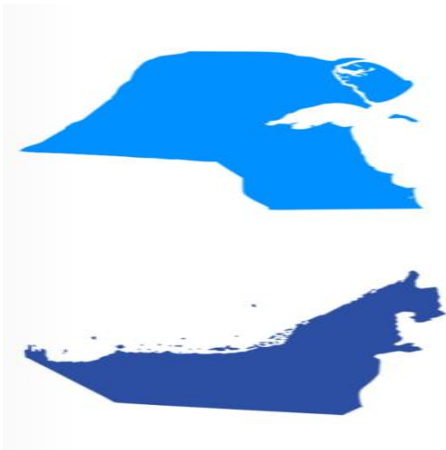


الخريطة



الجهات الأصلية


السؤال الثاني : ضع دائرة حول خريطة الإمارات :





السؤال الثالث : أكتب الجهة المناسبة لكل صورة :
شمال - جنوب - شرق - غرب



.....



.....



.....



.....

السؤال الرابع : ضع علامة صح أو خطأ أمام العبارات الآتية :

	1. يقع برج خليفة في إمارة دبي
	2. جبل جيس يقع في إمارة الفجيرة
	3. من الكائنات الغير الحية على الأرض الجبال