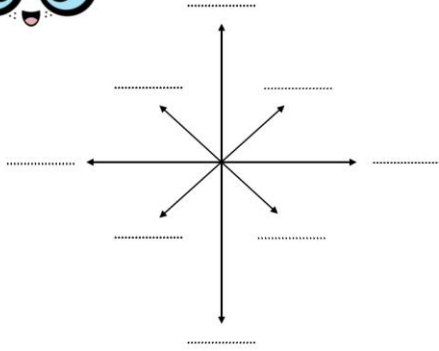


الدرس الأول : الجهات الأصلية

الاسم :
الصف الثالث /

5

السؤال الثالث : ارسمي الجهات الاصلية والفرعية مع كتابة الجهات كاملة :



المعلمة : منة الشحي

السؤال الأول : أقرأ العبارات التالية وأضع علامة عند الإجابة الصحيحة :

- () الجهات الاصلية هي الشمال والجنوب والشرق فقط.
- () نحدد الجهات ليلا ونهارا باستخدام الشمس .
- () البوصلة دائما الى جهة الشرق .
- () الجهة التي تقع بين جهتين أصليتين تسمى جهات فرعية.
- () القبلة هي الجهة التي يتوجه بها المسلمون وقت الصلاة.
- () تعد الشمس من أقرب النجوم الى الأرض .

السؤال الثاني : ارسمي الطرق التي تساعدنا في تحديد الجهات الاصلية :

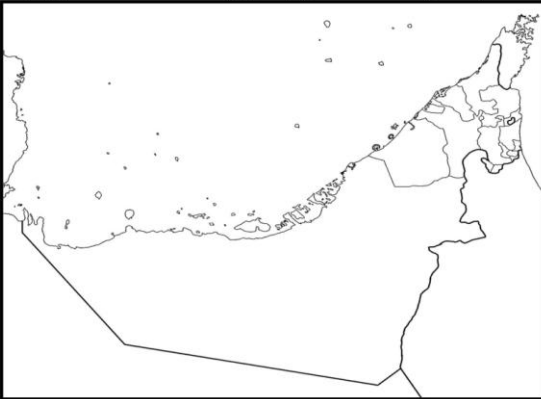
--	--

الدرس الثاني : خريطة بلادي

الاسم :
الصف الثالث /

5

السؤال الثالث : استكملي الخريطة التالية :
سلطنة عمان - الخليج العربي - السعودية

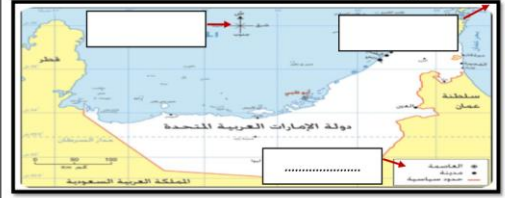


المعلمة : منة الشحي

السؤال الأول : أقرأ العبارات التالية وأضع علامة عند الإجابة الصحيحة :

- () الصورة هي نسخة طبق الأصل .
- () لا تساعدنا الصورة والخريطة في تعرف المكان .
- () عنوان الخريطة هو موضوع الخريطة .
- () مفتاح الخريطة لا يساعدنا في فهم الخريطة.
- () الرموز توضع في الجهات الاصلية .
- () الخريطة رسمة مصغرة لمكان او مدينة او دولة .
- () إطار الخريطة يحتوي على ثلاث خطوط مستقيمة .

السؤال الثاني : حددي عناصر الخريطة :



الدرس الثالث :

مدرسة سارة التعليم الأساسي
الرياضة الاجتماعية للبيئة الوطنية
العام الدراسي ٢٠٢٠-٢٠٢١

الاسم:

الصف الثالث /

5

دلالة الألوان في الخريطة

السؤال الثاني : نلون الأنشطة في الصحراء باللون الأصفر ، والأنشطة في الجبال باللون البني ، والأنشطة في السهول الساحلية باللون الأخضر .

الصيد

الزراعة

الرعي

سباق الهجن

التزحلق

سباق الزوارق

العلامة: ملكي للمعلم

السؤال الأول : أقرأ العبارات التالية وأضع علامة عند الإجابة الصحيحة :

- () الصحراء ارض جافة قليلة المطر.
- () الكثبان الرملية لا تحركها الرياح .
- () الجبل منطقة منخفضة.
- () اللون الأخضر يدل على السهول.
- () السهول الساحلية تكون بالقرب من الجبال.
- () اللون الأصفر يدل على الصحراء.
- () تتركز الجبال في دبي وابوظبي.

السؤال الثالث : اكتسب سكان الصحراء مجموعة من الصفات وهي ؟

.....

.....

.....