



النموذج التدريبي لمادة الرياضيات الفصل الدراسي الأول الصف الأول

AYHLE

إدارة التقييم والامتحانات

2017
1438

APHX



تهيئة الطلاب لتطبيق الامتحانات

الهدف



إرشادات

AYHLE

1. الاطلاع على النماذج التدريبية مسبقاً .
2. إمكانية توليد نماذج تدريبية على نمط النماذج المرفقة .
3. توظيف جهاز العرض في التدريب .
4. تنفيذ المفردات التدريبية بصورة فردية أو جماعية .
5. إنجاز التدريب ضمن الوقت المخصص قبل بداية الامتحان .


APHX



المفردات التدريبية :

(1) أوجد ناتج الجمع في كل مما يأتي :

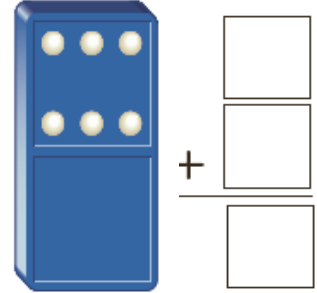
a)



$$4 + 3 = \dots\dots\dots .$$

AYHLE

b)



c)

5

+ 3

d)

$$6 + 3 + 4 = \dots\dots\dots .$$

(2) أوجد الجزء الناقص من العدد 10 .

جزء ●	جزء ●
	1
الكل	
10	

APHX

(3) اكتب جملة الجمع العددية .





_____ ○ _____ ○ _____



تابع المفردات التدريبية:

(4) أوجد ناتج طرح كل مما يأتي:

a)  $9 - 3 = \dots\dots\dots$

b)  $\begin{array}{r} 7 \\ - 2 \\ \hline \end{array}$

AYHLE

c) $\begin{array}{r} 8 \\ - 0 \\ \hline \end{array}$

d) $10 - 3 = \dots\dots\dots$

(5) اكتب جملة الطرح العددية.



$\underline{\hspace{2cm}} \bigcirc \underline{\hspace{2cm}} \bigcirc \underline{\hspace{2cm}}$

APHX

(6) عد مجموعة الفلسات.

فلسات $\underline{\hspace{2cm}}$





تابع المفردات التدريبية :

(7) اكتب المجموع باستخدام خط الأعداد أدناه.



$$8 + 2 = \underline{\quad}$$

(8) اكتب حقائق الطرح المترابطة .

$$6 + 2 = 8$$

AYHLE

$$\underline{\quad} - \underline{\quad} = \underline{\quad}$$

$$\underline{\quad} - \underline{\quad} = \underline{\quad}$$

(9) حدد العبارة الصحيحة في العبارات الآتية :


☆ $2 + 4 = 7$

☆ $3 + 5 = 8$

☆ $1 + 7 = 9$

APHX

(10) حدد حقيقة المضاعفات فيما يأتي .





تابع المفردات التدريبية:


11 رسمت هند 4 سيارات . ورسمت حصة 3 سيارات
ما مجموع السيارات التي رسمتها هند وحصة ؟



_____ ○ _____ ○ _____

AYHLE

12 يمتلك خالد 6 قبعات زرقاء و2 قبعة حمراء .
فكم تزيد القبعات الزرقاء عن القبعات الحمراء ؟



_____ ○ _____ ○ _____

13 تشتري عائشة 8 قمصان صفراء اللون، و4 قمصان برتقالية .
ما مجموع القمصان التي تشتريها عائشة ؟



APHX

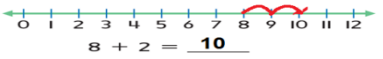

$$\begin{array}{r} \square \\ + \square \\ \hline \square \end{array} \rightarrow \begin{array}{r} 10 \\ + \square \\ \hline \square \end{array}$$

انتهى التدريب

بالتوفيق والنجاح



إجابة المفردات التدريبية:

الإجابة	رقم المفردة
7	a
$6+0=6$	b
8	c
13	d
9	2
$5+4=9$	3
6	a
5	b
8	c
7	d
$8-4=4$	5
14	6
 $8 + 2 = \underline{10}$	7
$8-2=6$	8
$8-6=2$	8
$3+5=8$	9
	10
$4+3=7$	11
$6-2=4$	12
<div style="border: 1px solid black; padding: 5px; display: inline-block;"> $\begin{array}{r} 8 \\ + 4 \\ \hline 12 \end{array} \rightarrow \begin{array}{r} 10 \\ + 2 \\ \hline 12 \end{array}$ </div>	13
انتهت الإجابة	