

الجزء الأول

60

ضع دائرة حول رمز الإجابة الصحيحة فيما يأتي:

1) كم شخصاً إجمالاً شاركوا في استطلاع الرأي؟

الرياضة المفضلة	
الرياضة	علامات الاحصاء
 كرة القدم	
 كرة السلة	

a) 12

b) 13

c) 10

2) كم شخصاً اختار الأخضر؟

اللون المفضل						
 أزرق						
 أخضر						

a) 4

b) 10

c) 6

3) ما الفاكهة التي حصلت على 3 أصوات؟

الفاكهة المفضلة						
 تفاح						
 موز						
 فراولة						

a) فراولة

b) تفاح

c) موز

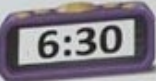
- يحظر تصوير أو تداول الورقة الامتحانية قبل أو أثناء أو بعد الامتحان من خلال البريد الإلكتروني أو وسائل التواصل الاجتماعي أو أي وسيلة أخرى
ومن يخالف ذلك سيخضع في حقه الإجراءات القانونية المتبعة.

- على إدارات المدارس ولجان الامتحانات ومراكز التقدير مراعاة ذلك، وصد الملاحظات، واتخاذ الإجراءات اللازمة.



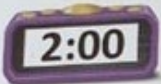
8) أي ساعة تظهر 6 ونصفاً؟

a)  6:03

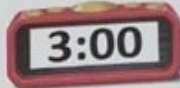
b)  6:30

c)  3:60


9) الوقت على الساعة يزيد بمقدار ساعة عن 1:00 . كم الساعة؟

a)  2:00

b)  12:00

c)  3:00

10) يقف عقرب الساعات بين 10 و 11، وعقرب الدقائق يقف على 6. أي ساعة هذه؟



11) ما عدد أضلاع الشكل؟



a) 6

b) 4

c) 8

12) ما عدد رؤوس الشكل؟



a) 4

b) 8

c) 6



- يحظر تصوير أو تداول الورقة الامتحانية قبل أو أثناء أو بعد الامتحان من خلال البريد الالكتروني أو وسائل التواصل الاجتماعي أو أي وسيلة أخرى
ومن يخالف ذلك سيتم في حقه الإجراءات القانونية المتبعة
- على إدارات المدارس ولجان الامتحانات ومراكز التقدير مراعاة ذلك، ورصد المخالفات، واتخاذ الإجراءات اللازمة.



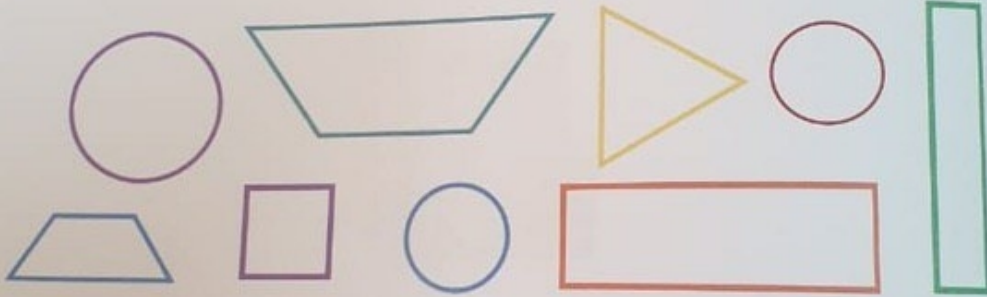
تابع امتحان نهاية الفصل الدراسي الثالث لمادة الرياضيات للصف الأول للعام الدراسي 2019/2018م

23) ارسم عقرب الدقائق لعرض الوقت، واكتب الوقت على الساعة الرقمية.

الساعة الثالثة والنصف



24) رسم عماد الأشكال الموضحة أدناه.



(a) ما عدد الأشكال التي لها 4 أضلاع؟

أشكال _____

(b) ما عدد الأشكال التي لها 0 رؤوس؟

أشكال _____

- يحظر تصوير أو تداول الورقة الامتحانية قبل أو أثناء أو بعد الامتحان من خلال البريد الإلكتروني أو وسائل التواصل الاجتماعي أو أي وسيلة أخرى ومن يخالف ذلك سيخضع في حقه الإجراءات القانونية المتبعة.
- على إدارات المدارس ولجان الامتحانات ومراكز التقدير مراعاة ذلك، ورصد المخالفات واتخاذ الإجراءات اللازمة



4) كم شخصًا اختار الجمعة والسبت؟



a) 5

b) 8

c) 7

5) حدد الجسم الأقصر.



6) كم عملة معدنية يبلغ طول الجسم تقريبًا؟

a) 5

b) 2

c) 1



7) ما الوقت الموضح؟

a) 9 : 00

b) 12 : 00

c) 6 : 00

- يحظر تصوير أو تداول الورقة الامتحانية قبل أو أثناء أو بعد الامتحان من خلال البريد الإلكتروني أو وسائل التواصل الاجتماعي أو أي وسيلة أخرى ومن يخالف ذلك سيتخذ في حقه الإجراءات القانونية المتبعة.
- على إدارات المدارس ولجان الامتحانات ومراكز التقدير مراعاة ذلك، ورصد المخالفات، واتخاذ الإجراءات اللازمة.



(21) اكتب القيم الإجمالية في جدول العلامات.

40

المركبة المفضلة		
المركبة	علامات الاحصاء	الإجمالي
 سيارة	1	---
 فان		---
 شاحنة		---

(b) استخدم جدول العلامات أعلاه في رسم تمثيل بياني بالأعمدة.

المركبة المفضلة										
 سيارة										
 فان										
 شاحنة										
	0	1	2	3	4	5	6	7	8	9

(22) ثمرة بطيخ تنمو بمقدار 1 مكعب كل يوم، وفي يوم الإثنين كان طولها 6 مكعبات. كم يبلغ طول الثمرة من المكعبات في يوم الأربعاء؟ أوجد الحل بإكمال الجدول.



المكعبات	الأيام
---	الاثنين
---	الثلاثاء
---	الأربعاء

- يحظر تصوير أو تداول الورقة الامتحانية قبل أو أثناء أو بعد الامتحان من خلال البريد الإلكتروني أو وسائل التواصل الاجتماعي أو أي وسيلة أخرى ومن يخالف ذلك سيتخذ في حقه الإجراءات القانونية المنيعة.
- على إدارات المدارس ولجان الامتحانات ومراكز التقدير مراعاة ذلك ورصد المخالفات، واتخاذ الإجراءات اللازمة

13) ما الشكل الذي له 3 أضلاع و 3 رؤوس؟

- a) مربع b) دائرة c) مثلث

14) ما عدد  المطلوبة لتكوين ؟

- a) 2 b) 4 c) 3

15) أي الأشكال الهندسية مستخدمة في تكوين الشكل؟



- a)  b)  c) 

16) أي شكل يعرض الأجزاء المتساوية؟

- a)  b)  c) 

- يحظر تصوير أو تداول الورقة الامتحانية قبل أو أثناء أو بعد الامتحان من خلال البريد الإلكتروني أو وسائل التواصل الاجتماعي أو أي وسيلة أخرى
ومن يخالف ذلك سيتدخ في حقه الإجراءات التأديبية المتبعة.
- على إدارات المدارس ولجان الامتحانات ومراكز التقدير مراعاة ذلك. ورصد المخالفات واتخاذ الإجراءات اللازمة.



17) مع هداية بسكوطة، ولها 3 أصدقاء يريدون مشاركتها البسكوطة.
ما عدد الأجزاء المتساوية التي تحتاج هداية إليها؟

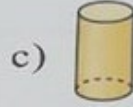
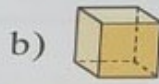


a) 2


b) 3

c) 4

18) أنا شكل ثلاثي الأبعاد. أوجهي على شكل مربعات. أي شكل أنا؟



19) ما عدد الأوجه في المكعب والأسطوانة إجمالاً؟

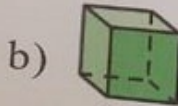
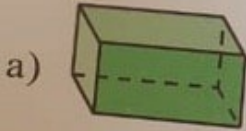
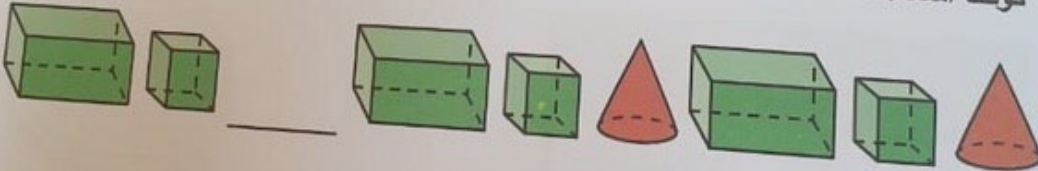


a) 8

b) 6

c) 7

20) كونت أسماء هذا النمط. ما الشكل الناقص؟



- يحظر تصوير أو تداول الورقة الامتحانية قبل أو أثناء أو بعد الامتحان من خلال البريد الإلكتروني أو وسائل التواصل الاجتماعي أو أي وسيلة أخرى ومن يخالف ذلك سيخضع في حقه الإجراءات القانونية المتبعة.
- على إدارات المدارس ولجان الامتحانات ومراكز التقدير مراعاة ذلك، ورصد المخالفات، واتخاذ الإجراءات اللازمة.



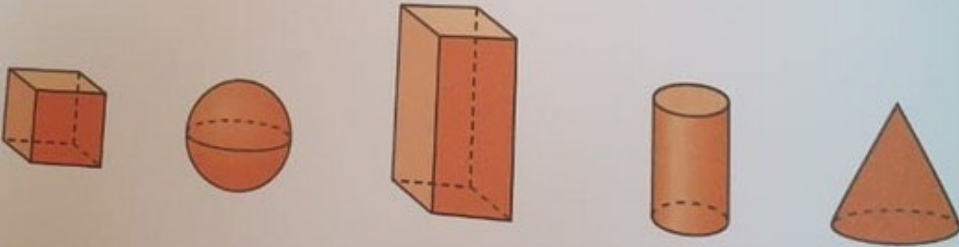
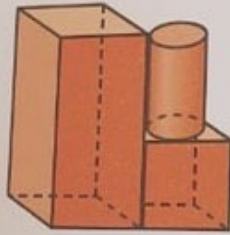
تابع امتحان نهاية الفصل الدراسي الثالث لمادة الرياضيات للصف الأول للتعلم الدراسي 2018/2019م

25) ما عدد أشباه المنحرفات التي تحتاج إليها من أجل تكوين هذا الشكل؟
ارسم خطوطاً مستقيمة لبيان أشباه المنحرفات.



أشباه منحرفات _____

26) حوِّط الأشكال المستخدمة لتكوين الشكل المركب.



انتهت الأسئلة
بالتوفيق والنجاح

- يحظر تصوير أو تداول الورقة الامتحانية قبل أو أثناء أو بعد الامتحان من خلال البريد الإلكتروني أو وسائل التواصل الاجتماعي أو أي وسيلة أخرى
ومن يخالف ذلك سيتم في حقه الإجراءات القانونية المنبغية
- على إدارات المدارس ولجان الامتحانات ومراكز التصدير مراعاة ذلك، ورفض المخالفات، واتخاذ الإجراءات اللازمة.